

TALLER DE GEOGRAFIA

7º GRADO

2

JORGE ROJAS QUINTERO

EBS
EDUCACIÓN BÁSICA
SECUNDARIA
CIENCIAS
SOCIALES


educar editores

TALLER DE GEOGRAFIA 2

GRADO 7º

JORGE ROJAS QUINTERO

EBS
EDUCACION BASICA SECUNDARIA
CIENCIAS SOCIALES

SEGUNDA EDICION

educar  editores

TALLER DE GEOGRAFIA 2

GRADO 7º

JORGE ROJAS QUINTERO

EDUCAR EDITORES
CIENCIAS SOCIALES

Autor

JORGE ROJAS QUINTERO

Director General
JAIRO CAMACHO CUELLAR

Editor
BENHUR SANCHEZ SUAREZ

Coordinación Editorial
FABIOLA ESCOBAR MONTOYA

Diseño
HUGO DIAZ MAPI

Dibujo
INES TELLEZ M.

Producción
CARLOS LOPEZ O.
FRANCISCO REY G.

Copyright © 1985, EDUCAR EDITORES LTDA.

Todos los derechos reservados.
Esta publicación no puede ser reproducida en todo ni en parte ni archivada o transmitida por ningún medio electrónico, mecánico, de grabación, de fotocopia, de microfilmación o en otra forma, sin permiso del Editor.

Editado por
EDUCAR EDITORES LTDA.
Calle 44 No. 15-26
Apartado Aéreo 21834
Bogotá, Colombia

ISBN 958-05-0057-6 (Serie)
ISBN 958-05-0063-0 (6)

EDUCAR EDITORES LTDA.
Impreso en Colombia
Printed in Colombia

PRESENTACION

Para que todo proceso de enseñanza-aprendizaje cumpla sus objetivos, es necesario dotar al estudiante de instrumentos que le faciliten la asimilación de contenidos y, a la vez, le permitan transferir ese conocimiento más allá del aula, de suerte que aprenda a interrelacionarlos con las realidades propias de su medio y de su tiempo.

No basta, pues, con proporcionarle material para que trabaje sin ningún plan, sino que es conveniente presentarle varias alternativas para que se exprese con su capacidad creativa, ponga en actividad sus destrezas manuales e indague y confronte con las demás fuentes correlativas con su nivel de estudio.

Frente al reto de unir teoría y praxis —el aprender-haciendo según los postulados de la didáctica moderna—, EDUCAR EDITORES ha diseñado este TALLER DE GEOGRAFIA en el cual, a partir del conocimiento adquirido, concreto, se afianza la calidad del mismo mediante el trabajo activo, evitando la simple transcripción de nombres y datos que pueden degenerar en tediosa repetición.

En la elaboración del TALLER se ha tenido en cuenta la necesidad de ubicar siempre al estudiante dentro del contexto global de los diferentes temas, sin entregárselos en forma aislada o contraria a toda realidad. Así, el estudiante aprenderá a interpretar, a relacionar y a comparar los diversos aspectos de un determinado ambiente o conocimiento científico, dentro del todo que le corresponde, percibiendo con ello la unidad y la universalidad que son inherentes al saber.

TEMA 1: POSICIÓN ASTRONÓMICA Y GEOGRÁFICA DE AMÉRICA. EXTENSION

RECUERDA QUE:

- A América se le conoce también como el Nuevo Continente; fue descubierta en 1492 por Cristóbal Colón y conquistadores españoles, portugueses, ingleses, franceses, holandeses, entre otros.
- Por su posición astronómica se encuentra en el hemisferio occidental y con latitudes que van del polo norte al polo sur. Sus puntos extremos son: 72° latitud norte en punta Barrow; 55° latitud sur en cabo de Hornos; 35° longitud occidental en Recife (Brasil) y 168° longitud oeste en cabo Príncipe de Gales.
- Geográficamente, el continente americano se encuentra entre el Océano Glacial Ártico al norte, el Océano Glacial Antártico al sur, el Océano Atlántico, al oriente, separándolo de Europa y África, y el Océano Pacífico, al occidente, separándolo de Asia y Oceanía.
- Por su aspecto físico se divide en tres regiones: Norteamérica, Centroamérica y Suramérica.
- En Centroamérica se consideran una parte continental (Guatemala, Honduras, El Salvador, Nicaragua, Costa Rica y Panamá) y una insular, integrada por Las Antillas Mayores: Cuba, Jamaica, República Dominicana, Haití y Puerto Rico; Las Bahamas o Lucayas: Gran Bahama, Andros, Nueva Providencia, Eleuthera, Concepción, Caicos, etc.; las islas de Barlovento: Dominica, Granada, Santa Lucía, San Vicente; las islas de Sotavento: Antigua, Barbuda, Redonda, San Kitts, Nevis, Anguilla, Monserrat, Islas Vírgenes; las Antillas holandesas: Aruba, Bonaire y Curazao y las Antillas francesas: Guadalupe y Martinica.
- Culturalmente, nuestro continente se divide en: América Anglosajona, integrada por Canadá y Estados Unidos y América Latina, a la que pertenecen todos los territorios situados al sur del río Grande. Esta parte se subdivide, a la vez, en América Española y América Portuguesa.
- La extensión del continente americano es de 42 062 918 km², ocupando el segundo lugar en el mundo después de Asia; le siguen África, Europa y Oceanía.

ACTIVIDADES

1. Señala en el mapamundi de la ilustración los puntos extremos y coordenadas del continente americano.
2. Escribe los límites geográficos y el nombre de los continentes vecinos de América.
3. Precisa la diferencia entre división física y división cultural.
— División física: _____
— División cultural: _____
4. Señala con una x la letra de la respuesta correcta.
El nombre de nuestro continente fue puesto en honor a:
a) Cristóbal Colón
b) Los Vikingos
c) Américo Vespucio
d) Simón Bolívar



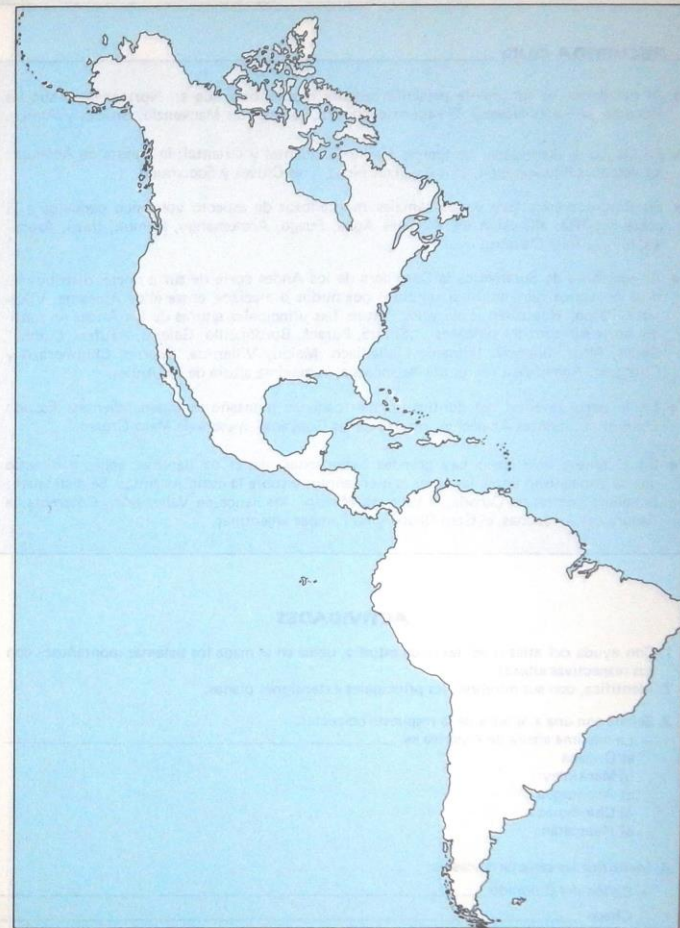
TEMA 2: COSTAS Y ACCIDENTES LITORALES

RECUERDA QUE:

- La costa norte de América es bastante accidentada y con muchas islas, pero poco importante por las condiciones de su clima glacial.
- Como accidentes litorales en el Artico sobresalen: las bahías Kotzebue, Mackenzie y Hudson; los golfos Amundsen, Coronación y Queen Mand; las islas Groenlandia, Baffin, Ellesmere, Victoria, Devon y Príncipe de Gales.
- La costa Atlántica tiene gran importancia para el desarrollo económico del continente; los principales accidentes de norte a sur en esta costa, son: los golfos San Lorenzo, Méjico, Campeche, Honduras, Mosquitos, Urabá, Morrosquillo, Venezuela, Coro, Paria, San Matías y San José; las penínsulas de Labrador, Nueva Escocia, Florida, Yucatán, Guajira y Paria; las bahías Fundy, Nueva York, Delaware, Shespeake, Santa Marta, Cartagena, Todos los Santos, Rio de Janeiro y Paranaguá; los estrechos Belle Isle, de Florida, Yucatán y Magallanes; el istmo de Panamá. los cabos Farewell, Charles y Sables. Además de las Antillas centroamericanas, al sur del océano se encuentran las islas Malvinas.
- La costa Pacífica tiene relativa importancia de acuerdo con los países que recorre; los accidentes que sobresalen en esta costa, de norte a sur, son: los golfos Alaska, Vancouver, California, Tehuantepec, Fonseca, Panamá, Tumaco, Guayaquil y Penas; las penínsulas de Alaska, California y Taitoo; las bahías de San Francisco y Buenaventura; la isla Vancouver, los archipiélagos Reina Carlota y Alejandro; las islas de Malpelo, Galápagos, Chiloé y el archipiélago de Chonos; los cabos San Lucas, Agujas y Hornos.
- Como fenómenos marítimos están las corrientes que intervienen en la modificación del clima; ellas son: en el Océano Atlántico, la fría de Labrador, la cálida del Golfo o Gulf Stream, la Ecuatorial del Atlántico. En el Océano Pacífico: la Ecuatorial, la fría de Humboldt, la cálida de California y Kuroshivo.

ACTIVIDADES

1. Con la ayuda del atlas o del texto de estudio, ubica los accidentes costaneros del continente americano en la gráfica.
2. Dibuja con flechas la dirección de las corrientes marítimas y escribe sus nombres.
3. Completa las siguientes frases:
 - De los océanos que circundan a América el que presenta mayor tráfico comercial es el _____
 - La isla de Groenlandia es posesión de _____
4. Señala con una x la letra de la respuesta correcta:
Por tradición histórica las Islas Malvinas son posesión de:
a) España
b) Argentina
c) Portugal
d) Inglaterra
e) Estados Unidos



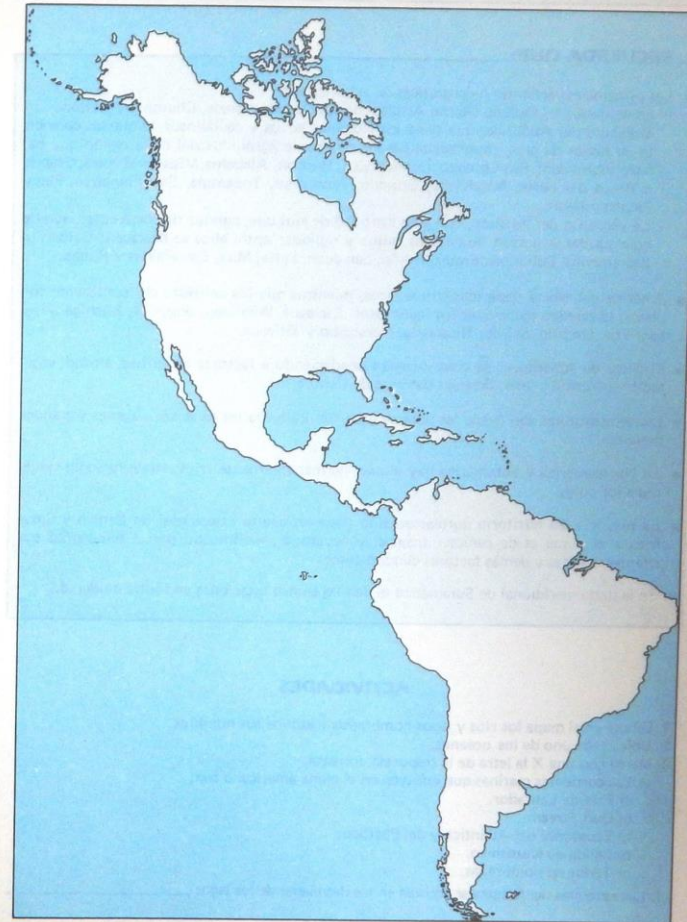
TEMA 3: GENERALIDADES DEL RELIEVE AMERICANO

RECUERDA QUE:

- Al occidente, el continente presenta cadenas montañosas que en Norteamérica son las Rocosas, la Sierra Nevada, la cadena costanera, los montes Mackenzie, Brooks y Alaska.
- En Méjico se distinguen: las Sierras Madre Occidental y Oriental; la meseta de Anáhuac; los volcanes Popocatepetl, Orizaba, Tres picos, Tres Cruces y Socomuco.
- En Centroamérica hay varios ramales montañosos de aspecto volcánico paralelos a la costa Pacífica; allí están los volcanes Agua, Fuego, Acatemango, Kamuk, Irazú, Arenales, Miravalles y Chiriquí.
- Al occidente de Suramérica la Cordillera de los Andes corre de sur a norte, distribuyéndose en varios ramales, interrumpidos por nudos o macizos, entre ellos Atacama, Vilcanota, Pasco, Huascarán, Loja y los Pastos. Las principales alturas de los Andes en sentido norte-sur son: los volcanes Sotará, Puracé, Bordoncillo, Galeras, Azufral, Cumbal, Chiles, Misti, Illampú, Illimani, Llullaillaco, Maipu, Villarrica, Osorno, Chimborazo y Cotopaxi. Además está el monte Aconcagua, la máxima altura de los Andes.
- En la parte oriental del continente hay cadenas montañosas independientes: Escudo Laurentino, montes Apalaches, macizo de las Guayanas, meseta de Mato Grosso.
- En el relieve americano hay grandes extensiones planas de llanuras, valles y mesetas que se encuentran entre las cadenas montañosas y sobre la costa Atlántica. Se distinguen: la llanura central de Canadá, el valle del Misisipí, los llanos de Venezuela y Colombia, la llanura del Amazonas, el Gran Chaco y las Pampas argentinas.

ACTIVIDADES

1. Con ayuda del atlas o del texto de estudio, ubica en el mapa los sistemas montañosos con sus respectivas alturas.
2. Identifica, con sus nombres, las principales extensiones planas.
3. Señala con una x la letra de la respuesta correcta:
- La máxima altura de América es: _____
a) Orizaba
b) Mackinley
c) Aconcagua
d) Chimborazo
e) Huascarán
4. Identifica las características de:
- Cañón del Colorado _____
- Chaco _____
- Pampa _____



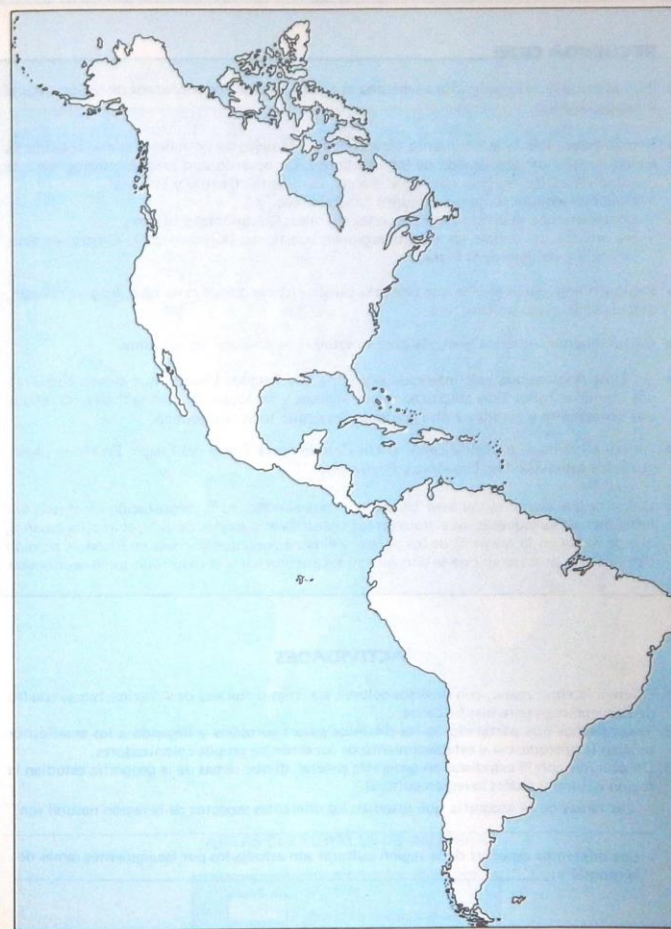
TEMA 4: ASPECTOS GENERALES DE LA HIDROGRAFIA Y EL CLIMA DE AMERICA

RECUERDA QUE:

- Las principales vertientes hidrográficas de América son:
 - La vertiente del Océano Glacial Artico, con los ríos Mackenzie, Churchill y Nelson.
 - Vertiente del Atlántico, que tiene los ríos más largos y caudalosos, lo que los convierte en factor de gran importancia para el desarrollo agroindustrial de la región que bañan; sobresalen: San Lorenzo, Connecticut, Hudson, Alabama, Misisipí-Misouri, Grande o Bravo del norte, Magdalena, Orinoco, Amazonas, Tocantins, San Francisco, Plata-Paraná y Negro.
 - La vertiente del Pacífico, con gran cantidad de ríos que, aunque de corto curso, son de gran caudal y poseen numerosos saltos y rápidos; entre ellos se destacan: Colorado, Sacramento, Columbia, Fraser, Yukón, San Juan, Patía, Mira, Esmeraldas y Rimac.
- América del Norte tiene numerosos lagos, mientras que los del resto del continente son pocos; se pueden mencionar los lagos Osos, Esclavos, Winnipeg, Superior, Michigan, Huron, Erie, Ontario, Salado, Nicaragua, Maracaibo y Titicaca.
- El clima de América es de gran variedad obedeciendo a factores de latitud, altitud, vegetación, cercanía al mar, diversos sistemas de vientos, etc.
- Las temperaturas van desde las polares y de tundra hasta las de selvas vírgenes y grandes desiertos.
- En Norteamérica y Suramérica hay climas permanentemente fríos, en las regiones cercanas a los polos.
- La mayoría del territorio norteamericano tiene las cuatro estaciones. En Centro y Suramérica el clima es de carácter tropical y ecuatorial, modificado por el relieve, las corrientes marinas y demás factores climatológicos.
- En la parte meridional de Suramérica se dan las cuatro estaciones en forma moderada.

ACTIVIDADES

1. Dibuja en el mapa los ríos y lagos nombrados y escribe sus nombres.
2. Ubica cada uno de los océanos.
3. Marca con una X la letra de la respuesta correcta.
 - Las corrientes marinas que influyen en el clima americano son:
 - a) Fría de Labrador.
 - b) Gulf Stream.
 - c) Ecuatorial del Atlántico y del Pacífico.
 - d) Cálida de Kuroshivo.
 - e) Todas las nombradas.
4. Las cataratas del Niágara se forman en los desniveles de los lagos _____ y _____.



TEMA 5: REGIONES NATURALES Y AREAS CULTURALES

RECUERDA QUE:



- Para el estudio de la geografía americana se deben precisar los conceptos de región natural y región cultural.
- Región natural es la que presenta características semejantes en relieve, clima, actividades económicas y modos de vida de los habitantes. De acuerdo con esto, Norteamérica está dividida en cuatro regiones naturales: Boreal, Occidental, Central y Oriental.
 - Méjico se estudia como un conjunto natural único.
 - Centroamérica se divide en dos grandes regiones: Continental e Insular.
 - Suramérica se divide en cuatro regiones naturales: Noroccidental, Central-Andina, Oriental y del Río de la Plata.
- Región o área cultural es la que presenta características comunes en raza, lengua, religión, organización socio-política, etc.
- Culturalmente, América se divide para su estudio en Anglosajona y Latina.
- América Anglosajona está integrada por Canadá y Estados Unidos, que tienen como rasgos comunes haber sido colonizados por ingleses y franceses, el idioma inglés, las religiones protestante y católica y alto grado de desarrollo socio-económico.
- América Latina se extiende desde el río Grande hasta Tierra del Fuego. En ella se distinguen dos subdivisiones: Española y Portuguesa.
- Como rasgos comunes del área latinoamericana sobresalen: la colonización efectuada por españoles y portugueses, que trajeron sus costumbres y modos de vida; el idioma español, que se habla en la mayoría de los países, y el portugués, que se habla en Brasil; la religión católica y el proceso en que se encuentran sus pueblos hacia el desarrollo socio-económico.

ACTIVIDADES

1. Diferencia en el mapa, con diversos colores, las áreas culturales de América; haz el cuadro de convenciones para identificarlas.
2. Traza flechas que partiendo de los distintos países europeos y llegando a los americanos señalen la procedencia y establecimiento de los distintos grupos colonizadores.
3. De acuerdo con lo estudiado en geografía general, di qué ramas de la geografía estudian la región natural y cuáles la región cultural.
 - Las ramas de la geografía que estudian los diferentes aspectos de la región natural son:
 - Los diferentes aspectos de la región cultural son estudiados por las siguientes ramas de la geografía:



AREAS CULTURALES DE AMERICA

	América Anglosajona
	América Latina

TEMA 6: AMÉRICA LATINA. DELIMITACION. ASPECTO FÍSICO GENERAL

RECUERDA QUE:

- América Latina se extiende desde el río Bravo o Grande del Norte hasta la Tierra del Fuego, en Argentina, con una extensión aproximada de 20'562.000 km².
- A ella pertenecen Méjico, Guatemala, Honduras, El Salvador, Nicaragua, Costa Rica, Panamá, Cuba, Puerto Rico, Haití y República Dominicana; Colombia, Venezuela, Ecuador, Perú, Brasil, Bolivia, Paraguay, Uruguay, Argentina y Chile.
- Los países latinoamericanos son todos los de habla latina; en nuestro caso, los que hablan español y portugués, que son los idiomas traídos por los conquistadores.
- En el aspecto físico de América Latina sobresalen tres tipos de relieve: montañoso, llanuras y valles.
- Los sistemas montañosos se extienden en su mayoría a lo largo de la costa Pacífica, con zonas bastante volcánicas, algunas de ellas en permanente actividad.
- Se distingue el sistema orográfico de los Andes, uno de los más largos del mundo; su máxima altura es el monte Aconcagua.
- Otros sistemas montañosos son las serranías y mesetas del Brasil y las Guayanas, y las cadenas de Centroamérica.
- Las zonas planas corresponden a altas mesetas (Anáhuac, Bogotá, Bolivia, etc.), a las llanuras costaneras sobre el Atlántico o a las regiones fluviales, entre ellas las del Amazonas, el Orinoco, el Chaco y la Pampa argentina. La cuenca del Amazonas es considerada la más grande del mundo.
- También hay numerosos valles que se intercalan entre los sistemas montañosos y están cruzados por grandes y caudalosos ríos.
- Los ríos de Latinoamérica son numerosos, de considerable longitud y caudal. Llevan sus aguas al Océano Pacífico o al Atlántico. Los primeros son casi siempre cortos pero torrentosos, que sirven para generar fuerza hidroeléctrica. Los del Atlántico son largos y abundantes y bañan fértiles tierras.
- En las depresiones del relieve se forman algunos lagos y varias lagunas.
- El clima en América Latina por su latitud es de cuatro estaciones moderadas al norte de Méjico, en Chile, Argentina, Uruguay y Paraguay; ecuatorial en las regiones del Amazonas; tropical en el resto, con variaciones según la altura y otros factores.

ACTIVIDADES

1. En el mapa, colorea los países que integran América Latina y con distinto color las zonas montañosas del continente.
2. Escribe tres consecuencias de la variedad climática en América Latina.
3. Colorea las zonas que presentan climas de cuatro estaciones.



TEMA 7: AMERICA LATINA - ASPECTOS DEMOGRAFICOS GENERALES

RECUERDA QUE:

- La población de América Latina es triétnica; es decir, es una mezcla de las razas indígena, blanca y negra.
- La raza indígena es un aporte de varias familias aborígenes, entre las que sobresalen: aztecas, mayas, chibchas, incas, araucanos, guaraníes, pampeanos y arawacos.
- La raza blanca llegó al continente con los conquistadores españoles y portugueses.
- La raza negra fue traída desde África para reemplazar a los indígenas en las labores del campo o de las minas.
- Cada una de las tres razas entregó los rasgos físicos y culturales que dieron como resultado el prototipo de hombre latinoamericano.
- Con el tiempo el mestizaje se ha ido purificando y definiendo con características propias de una raza común.
- Quedan algunos grupos indígenas, principalmente en Bolivia, Perú, Ecuador, Guatemala y Méjico, cuyo número es considerable.
- Méjico sobresale por su acentuado nacionalismo, basado en sus tradiciones.
- Los países con mayor porcentaje de población blanca son: Argentina, Chile, Uruguay y Costa Rica.
- Los rasgos de población negra sobresalen en los países insulares, las costas del mar Caribe y del Brasil.
- En orden, de mayor a menor, según el número de habitantes, los 10 países latinoamericanos más poblados son: Brasil, Méjico, Colombia, Argentina, Perú, Venezuela, Chile, Cuba, Ecuador y Guatemala.

ACTIVIDADES

1. Ubica en el mapa, por medio de un dibujo, los principales grupos indígenas de Latinoamérica. En dirección proveniente de Europa dibuja una figura de raza blanca y en dirección proveniente de África dibuja una de raza negra. Escribe alrededor de c/u los principales aportes.
2. Relaciona las columnas, colocando al frente de cada país de B la letra que le corresponda de A.

A		B	
a) Aztecas	_____ Chile	e) Araucanos	_____ Méjico
b) Mayas	_____ Brasil	f) Arawacos	_____ Guatemala
c) Chibchas	_____ Paraguay	g) Guaraníes	_____ Colombia
d) Incas	_____ Argentina	h) Pampeanos	_____ Perú



**TEMA 8: MÉJICO - CENTROAMÉRICA CONTINENTAL.
ASPECTO FÍSICO**

RECUERDA QUE:

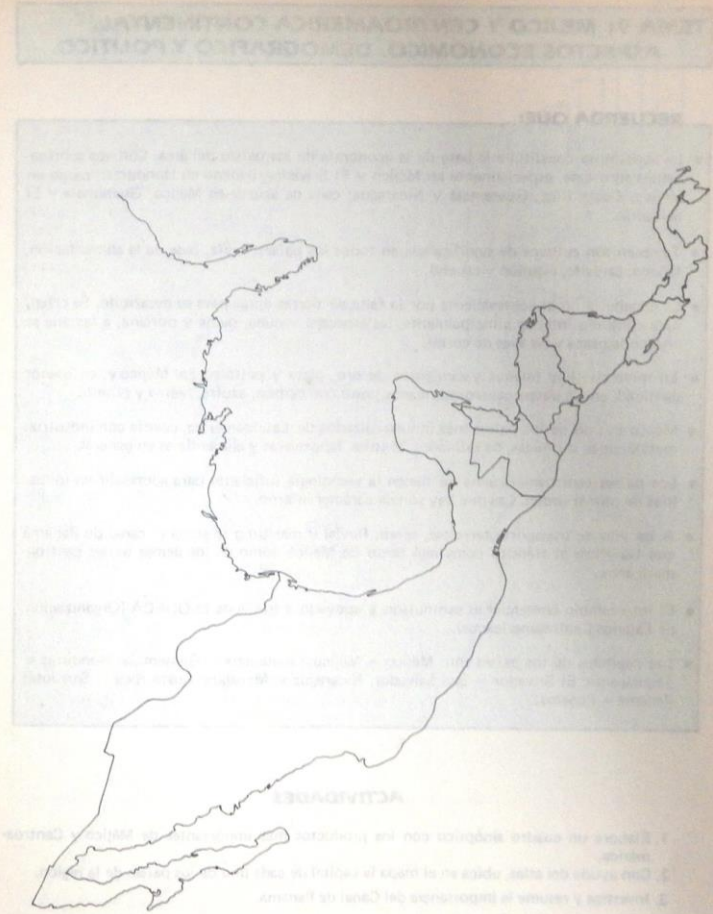
- Considerando las dos áreas en sentido norte-sur, el relieve se presenta así:
 - En Méjico la Sierra Madre Occidental y la Sierra Madre Oriental, que se unen hacia el sur en el macizo de la meseta de Anáhuac.
 - En las cadenas montañosas hay varios volcanes; los principales son: Orizaba, Popocatepelt, Paricutín y Calima.
 - En la zona de las costas hay tierras planas sobresaliendo las llanuras del Atlántico.
 - El suelo de Centroamérica ístmica o continental es de carácter volcánico. Principales cadenas montañosas son: Sierra Madre de Chiapas en Guatemala y El Salvador. Se distinguen los volcanes: Tres Picos, Socomuco, Tres Cruces, Acatemango y Agua en Guatemala; en El Salvador están: Santa Ana, San Miguel y San Vicente.
 - En Honduras están las cadenas de Sierra Madre de Dios y de la Esperanza.
 - En Nicaragua, la Sierra Madre Isabelina.
 - En Costa Rica y Panamá las cordillera: Volcánica, Central, Talamanca, Tabasará, también con varios volcanes como Miravalles, Irazú, Chirripa y Kamuk en el primer país y Chiriquí en el segundo.
 - Por el oriente de Panamá corren las cordilleras de San Blas y del Darién; esta le sirve de límite con Colombia.
- La mayoría de los países tienen llanuras sobre los dos océanos, que son angostas en el Pacífico y más amplias en el Atlántico.
- En la hidrografía de Méjico los ríos que van al océano Pacífico son: Sonora, Yaqui, Balsas y Tehuantepec; al Atlántico, en el Golfo de Méjico, llegan: el Bravo o Grande del Norte, Papaloapan, Grijalva y Usumacinta.
- En Centroamérica, dada la proximidad de las montañas a la costa, los ríos no son de curso considerable. Sobresalen: en Guatemala, el Usumacinta, que sirve de límite con Méjico y el Matagua; en Honduras, el Ullúa, el Patuca y el Coco o Segovia; en Nicaragua, el Matagalpa y el San Juan, que sirve de límite con Costa Rica.
- El clima en las regiones montañosas es de altitud; en las tierras del Atlántico, cálido tropical; en el Pacífico, cálido y en algunos sectores húmedo.

ACTIVIDADES

1. En el mapa y con ayuda del atlas o del texto de estudio, ubica los sistemas montañosos de Méjico y Centroamérica con sus principales alturas.
2. Traza y escribe los nombres de los ríos citados.
3. Relaciona las alturas de la columna B con los países de A.

- A
- a) Méjico
 - b) Guatemala
 - c) El Salvador
 - d) Costa Rica
 - e) Panamá

- B
- Chiriquí
 - Santa Ana
 - Popocatepelt
 - Acatemango
 - Irazú



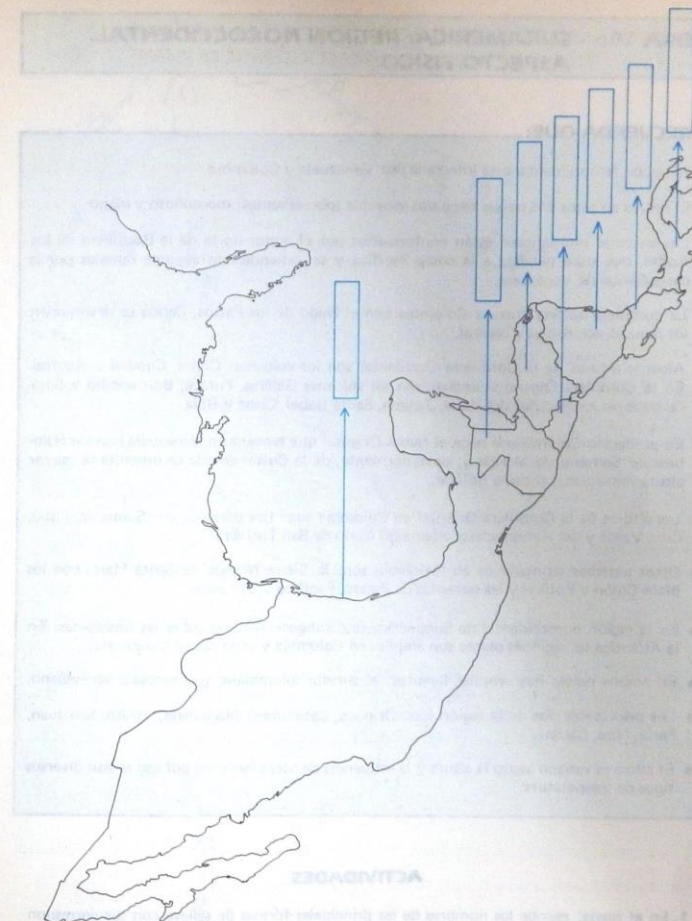
**TEMA 9: MÉJICO Y CENTROAMÉRICA CONTINENTAL.
ASPECTOS ECONOMICO, DEMOGRAFICO Y POLITICO**

RECUERDA QUE:

- La agricultura constituye la base de la economía de los países del área. Cultivos sobresalientes son: café, especialmente en Méjico y El Salvador; banano en Honduras; cacao en Méjico, Costa Rica, Guatemala y Nicaragua; caña de azúcar en Méjico, Guatemala y El Salvador.
- También son cultivos de significancia en todos los países: maíz, base de la alimentación, tabaco, cereales, algodón y caucho.
- La ganadería no es sobresaliente por la falta de tierras aptas para su desarrollo. Se crían, para consumo interno principalmente, las especies: vacuna, ovina y porcina, a las que se añaden la pesca y las aves de corral.
- En minerales hay buenos yacimientos de oro, plata y petróleo en Méjico y, en menor cantidad, en los países centroamericanos junto con carbón, azufre, hierro y plomo.
- Méjico es uno de los países más industrializados de Latinoamérica, cuenta con industrias metalúrgicas, químicas, de refinados, textiles, tabacaleras y alimenticias en general.
- Los países centroamericanos no tienen la tecnología suficiente para sobresalir en industrias de primer orden. Las que hay son de carácter interno.
- A las vías de transporte terrestre, aéreo, fluvial y marítimo se suma el canal de Panamá que beneficia el tránsito comercial tanto de Méjico como de los demás países centroamericanos.
- El intercambio comercial es estimulado y apoyado a través de la ODECA (Organización de Estados Centroamericanos).
- Las capitales de los países son: Méjico = Méjico; Guatemala = Guatemala; Honduras = Tegucigalpa; El Salvador = San Salvador; Nicaragua = Managua; Costa Rica = San José; Panamá = Panamá.

ACTIVIDADES

1. Elabora un cuadro sinóptico con los productos mas importantes de Méjico y Centroamérica.
2. Con ayuda del atlas, ubica en el mapa la capital de cada uno de los países de la región.
3. Investiga y resume la importancia del Canal de Panamá.



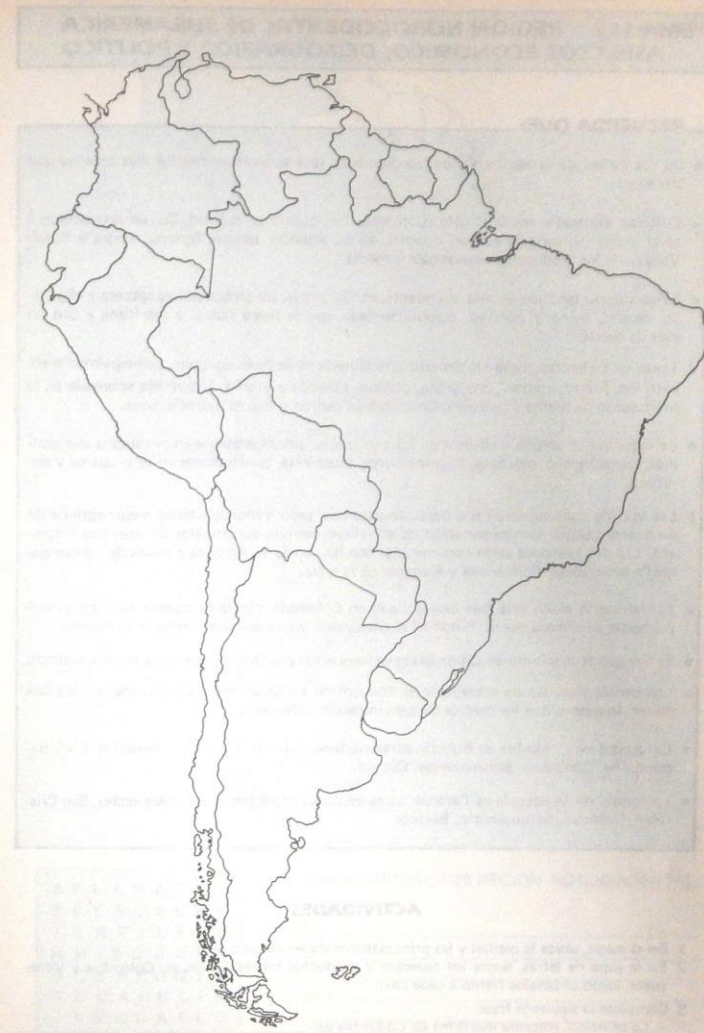
TEMA 10: SURAMERICA: REGION NOROCCIDENTAL. ASPECTO FISICO

RECUERDA QUE:

- La región Noroccidental está integrada por Venezuela y Colombia.
- El relieve en estos dos países tiene dos aspectos sobresalientes: montañoso y plano.
- Los sistemas montañosos están conformados por el sector norte de la Cordillera de los Andes, que sube paralela a la costa Pacífica y se extiende con algunos ramales por la costa Caribe de Venezuela.
- La cordillera andina entra a Colombia con el Nudo de los Pastos, donde se desprenden los ramales occidental y central.
- Algunas alturas de la Cordillera Occidental son los volcanes: Chiles, Cumbal y Azufral. En la Cordillera Central se encuentran los volcanes Galeras, Puracé, Bordoncillo y Sotará; también los nevados del Huila, Tolima, Santa Isabel, Cisne y Ruiz.
- En el Macizo Colombiano nace el ramal Oriental que termina en Venezuela con los nombres de Serranía de Mérida y, posteriormente, de la Costa; en ella se presenta la mayor altura venezolana, el cerro Bolívar.
- Las alturas de la Cordillera Oriental en Colombia son: Los páramos de: Sumapaz, Pisba, Cruz Verde y del Almorzadero; además el Nudo de San Turbán.
- Otros sistemas montañosos en Colombia son: la Sierra Nevada de Santa Marta con los picos Colón y Bolívar y las serranías de Baudó, Pacífico y San Juan.
- En la región noroccidental de Suramérica se distinguen llanuras sobre las dos costas. En la Atlántica las regiones planas son amplias en Colombia y angostas en Venezuela.
- En ambos países hay amplias llanuras: al sureste colombiano y al suroeste venezolano.
- Los principales ríos de la región son: Orinoco, Catatumbo, Magdalena, Atrato, San Juan, Patía, Mira, Caroní.
- El clima es variado según la altura y la influencia de otros factores; por eso se dan diversos tipos de temperatura.

ACTIVIDADES

1. En el mapa: escribe los nombres de las principales formas de relieve con sus correspondientes alturas.
2. Localiza y dibuja los principales ríos de la región.
3. Señala los límites de la región Noroccidental.
4. Brevemente, establece una comparación entre el relieve colombiano y el venezolano.
5. Completa la siguiente frase:
— Según la latitud, a Colombia y Venezuela les corresponde un clima _____



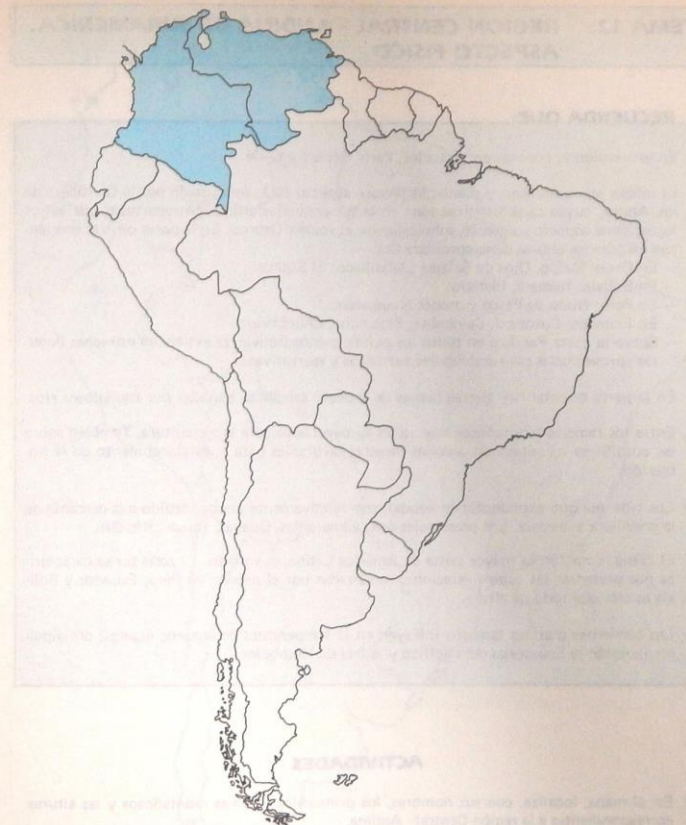
**TEMA 11: REGION NOROCCIDENTAL DE SURAMERICA
ASPECTOS ECONOMICO, DEMOGRAFICO Y POLITICO**

RECUERDA QUE:

- De los países de la región, Colombia desarrolla una agricultura mucho más extensa que Venezuela.
- Cultivos sobresalientes son: café (Colombia 1er. puesto en calidad, 2o. en producción a nivel mundial), caña de azúcar, cereales, arroz, algodón, tabaco, banano, frutas y flores. Venezuela los produce en escalas baja y media.
- La ganadería también es más abundante en Colombia; en ambos países sobresa el ganado vacuno, ovino y porcino, complementado con la pesca fluvial y marítima y con las aves de corral.
- Tanto en Colombia como en Venezuela la minería es de buen volumen, principalmente en petróleo, hierro, carbón, oro, plata, platino, mármol y uranio; Venezuela sobresa en la producción de hierro y petróleo; Colombia en carbón y fuerza hidroeléctrica.
- La industria es amplia y diversa en los dos países, principalmente en productos alimenticios, metalúrgicos, plásticos, hidrocarburos, mueblería, confecciones en tela, cueros y sintéticos.
- Las vías de comunicación son bastante extensas, pero Venezuela tiene mejor sistema de carreteras porque la conformación de su relieve permite construirlas sin mayores tropiezos. Las dos naciones están comunicadas con las demás de America a través de las carreteras Panamericana, Bolivariana y Marginal de la selva.
- El transporte aéreo está más desarrollado en Colombia, con la compañía Avianca, principalmente, la primera que se fundó en el continente y una de las primeras en el mundo.
- El transporte marítimo en Colombia se ve favorecido por tener costas sobre los dos océanos.
- Los demás sistemas de transporte se encuentran en igualdad de condiciones en los dos países, lo mismo que los medios de comunicación a distancia.
- La capital de Colombia es Bogotá; otras ciudades sobresalientes son: Medellín, Cali, Barranquilla, Cartagena, Bucaramanga, Cúcuta.
- La capital de Venezuela es Caracas; otras ciudades importantes son: Maracaibo, San Cristóbal, Valencia, Barquisimeto, Bolívar.

ACTIVIDADES

1. En el mapa, ubica la capital y las principales ciudades de cada país.
2. En la sopa de letras, busca los aspectos y productos sobresalientes en Colombia y Venezuela; luego ordénalos frente a cada país.
3. Completa la siguiente frase:
— La principal empresa marítima de Colombia es: _____



A P L A T A T L X
Z P E S C A C F Y
T E X T I L E S G
H H I E R R O P A
D C A R B O N Y N
A G U A S R L I A
C A Ñ A C A F E D
O R O B A N A N O

PRINCIPALES PRODUCTOS REGION NOROCCIDENTAL

Colombia: _____

 Venezuela: _____

TEMA 12: REGION CENTRAL - ANDINA DE SURAMERICA. ASPECTO FISICO

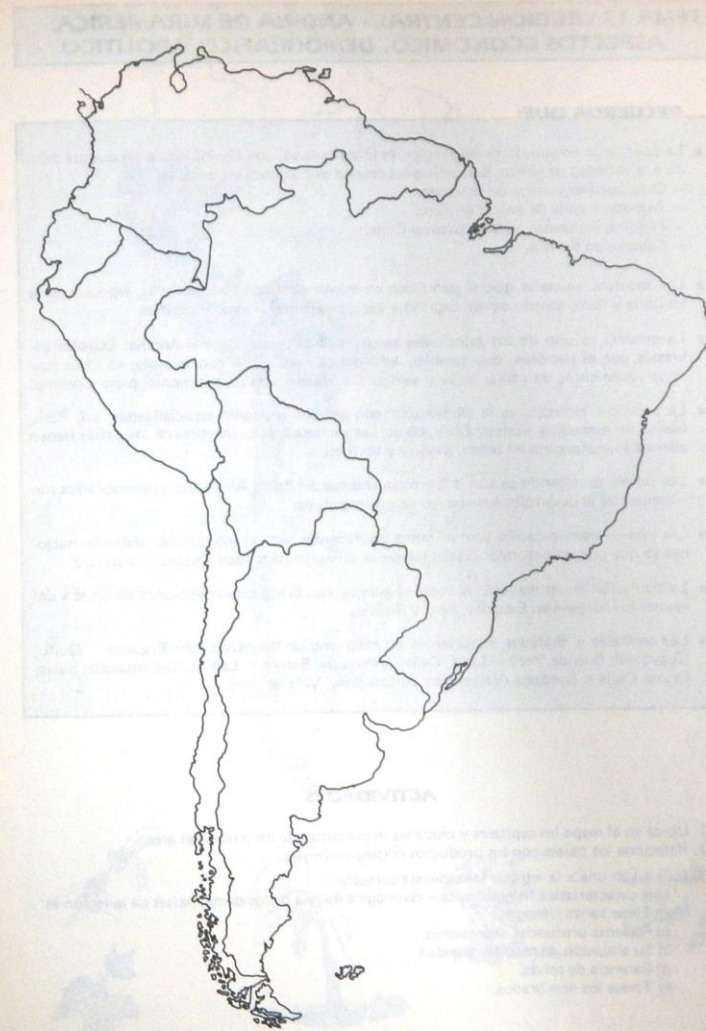
RECUERDA QUE:

- En esta región se consideran: Ecuador, Perú, Bolivia y Chile.
- El relieve es montañoso y plano. El primer aspecto está conformado por la Cordillera de los Andes, cuyas características son: en el sur pequeñas alturas entrecortadas por varios lagos; tiene aspecto volcánico, sobresaliendo el volcán Osorno. En la parte central comienzan las grandes alturas de la cordillera así:
 - En Chile: Maipo, Ojos de Salado, Llullaillaco, El Sajama.
 - En Bolivia: Illimani, Illampu.
 - En Perú: Nudo de Pasco y monte Huascarán.
 - En Ecuador: Cotopaxi, Cayambre, Pichincha, Chimborazo.
 - Sobre la costa Pacífica en todos los países, menos Bolivia, se extienden estrechas llanuras aprovechadas para actividades turísticas y recreativas.
- En la parte oriental hay tierras planas de aspecto selvático, bañadas por caudalosos ríos.
- Entre los ramales montañosos hay valles aprovechados para la agricultura. También sobre las cordilleras se extienden amplias mesetas favorables para el establecimiento de la población.
- Los ríos, aunque abundantes en caudal, son relativamente pocos, debido a la cercanía de la cordillera a la costa. Los principales son: Esmeraldas, Guayas, Rimac, Bío-Bío.
- El clima, como en la mayor parte de América Latina, es variado. La zona sur se caracteriza por presentar las cuatro estaciones moderadas por el relieve; en Perú, Ecuador y Bolivia es más que todo de altura.
- Las corrientes marinas también influyen en la temperatura de algunos lugares; principalmente están la Ecuatorial del Pacífico y la fría de Humboldt.

ACTIVIDADES

1. En el mapa, localiza, con sus nombres, los principales sistemas montañosos y las alturas correspondientes a la región Central - Andina.
2. Dibuja los principales ríos de la región y escribe sus nombres.
3. Explica brevemente por qué en Chile se presentan las cuatro estaciones.

4. Señala con una x la respuesta correcta:
 - El Lago Titicaca se encuentra en:
 - a) Perú
 - b) Chile
 - c) Ecuador
 - d) Bolivia
 - e) Ninguno de los nombrados



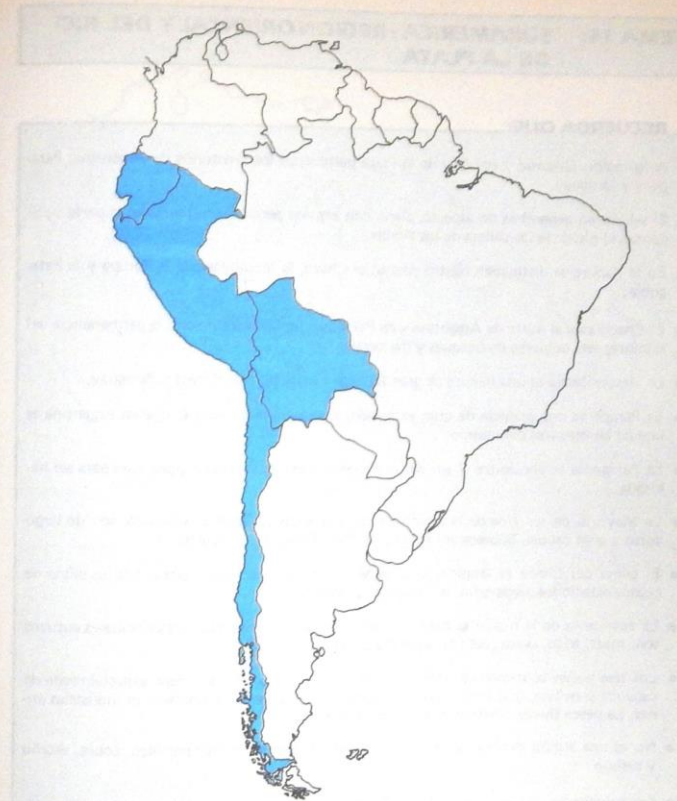
**TEMA 13 : REGION CENTRAL - ANDINA DE SURAMERICA.
ASPECTOS ECONOMICO, DEMOGRAFICO Y POLITICO**

RECUERDA QUE:

- La base de la economía de esta región es la agricultura, con diversidad de productos debido a la variedad de climas. Los países sobresalen por algunos cultivos, así:
 - Café, banano y cacao en Ecuador.
 - Algodón y caña de azúcar en Perú.
 - Frijoles, manzanas, peras y uvas en Chile.
 - Cereales en Bolivia.
- Los recursos animales que se producen en mayor cantidad son: pescado, especialmente en Chile y Perú, ganado ovino, caprino y vacuno; además alpacas y vicuñas.
- La minería es uno de los principales recursos de la región Central-Andina. Ecuador sobresale por el petróleo, que también lo produce Perú junto con la plata; en Chile hay ricos yacimientos de cobre, hulla y salitre. En Bolivia, estaño, antimonio, plata y plomo.
- La principal industria es la alimenticia, con algunos renglones especializados, así: Perú, harina de pescado y aceites; Chile, conservas y enlatados. La mayoría de los países tienen además manufacturas en cuero, madera y textiles.
- Los países centroandinos son o fueron miembros del Pacto Andino, cuyos propósitos son incrementar el desarrollo económico de sus miembros.
- Las vías de comunicación son un tanto insuficientes para el intercambio entre las naciones ya que por la conformación del relieve se dificultan o se hace costosa su apertura.
- La población en su mayoría es mestiza aunque con predominio del blanco en Chile y del elemento indígena en Ecuador, Perú y Bolivia.
- Las capitales y ciudades importantes en cada uno de los países son: Ecuador = Quito, Guayaquil, Cuenca; Perú = Lima, Callao, Arequipa; Bolivia = La Paz, Cochabamba, Sucre, Oruro; Chile = Santiago, Valparaíso, Antofagasta, Viña del Mar.

ACTIVIDADES

1. Ubica en el mapa las capitales y ciudades importantes de los países del área.
2. Relaciona los países con los productos correspondientes.
3. Señala con una x la letra de la respuesta correcta:
 - Una característica fisiográfica que distingue a Bolivia de los demás países de la región es:
 - a) Tiene varias ciénagas.
 - b) Presenta profundas depresiones.
 - c) Su situación de mediterraneidad.
 - d) Carencia de selvas.
 - e) Todos los nombrados.



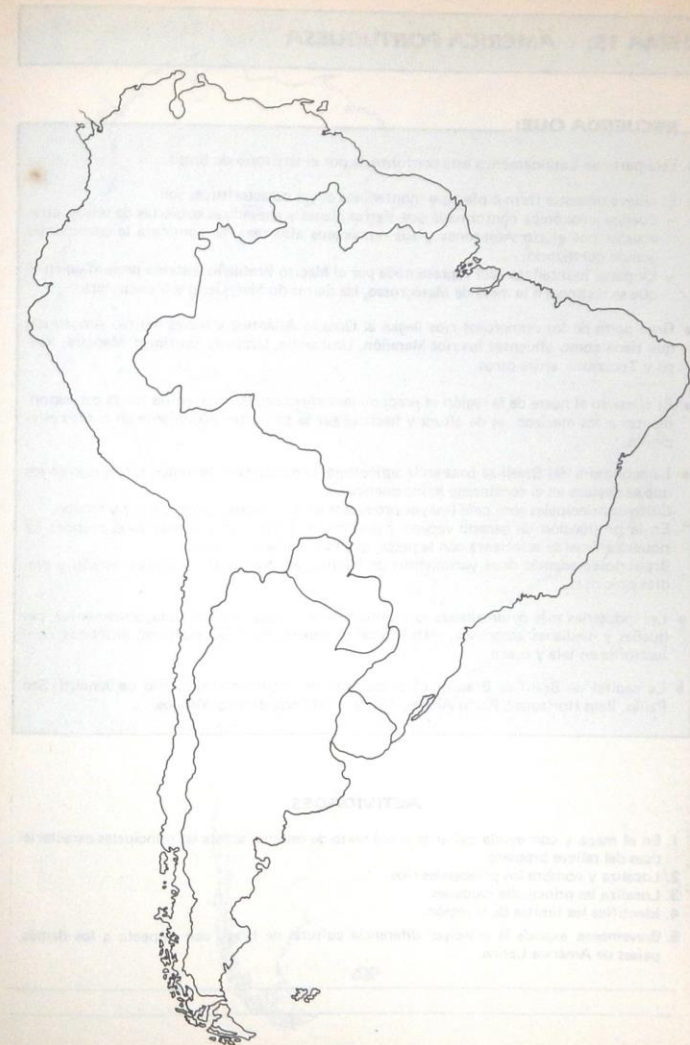
TEMA 14: SURAMERICA - REGION ORIENTAL Y DEL RIO DE LA PLATA

RECUERDA QUE:

- A la región Oriental y del Río de la Plata pertenecen los territorios de Argentina, Paraguay y Uruguay.
- El relieve en general es de aspecto plano con algunas pequeñas serranías en la parte occidental, al pie de la Cordillera de los Andes.
- En la llanura se distinguen cuatro partes: el Chaco, la Mesopotamia, la Pampa y la Patagonia.
- El Chaco está al norte de Argentina y de Paraguay, no favorece mucho la permanencia del hombre; está cubierto de bosques y matorrales.
- La Mesopotamia es una llanura de gran fertilidad entre los ríos Paraná y Paraguay.
- La Pampa es una planicie de gran extensión, apta para la ganadería, que en Argentina es una de las mayores del mundo.
- La Patagonia se encuentra al sur del continente y es bastante seca; poco apta para ser habitada.
- La mayoría de los ríos de la región vierten sus aguas al Océano Atlántico; son de largo curso y gran caudal. Sobresalen: Paraná, la Plata, Paraguay y Uruguay.
- El clima del Chaco es tropical seco; la Mesopotamia y la Pampa presentan un clima de cuatro estaciones moderadas; la Patagonia es árida y fría.
- La economía de la región se basa en la agricultura y la ganadería. Los principales cultivos son: maíz, trigo, avena, cebada, girasol y algodón.
- Los tres países sobresalen a nivel mundial por su producción ganadera, especialmente de vacunos y ovinos, que constituyen renglones de exportación y promueven industrias afines. La pesca fluvial y marítima también es abundante.
- No es una región minera; se explotan en pequeña escala: hierro, petróleo, cobre, estaño y carbón.
- Las principales industrias son: frigoríficos, lácteos, tejidos, cueros y papel. Argentina posee ensambladoras de automotores.
- Las capitales y ciudades principales son: Argentina = Buenos Aires, Rosario, Córdoba, Mendoza, Santa Fe; Paraguay = Asunción, Encarnación, Concepción; Uruguay = Montevideo, Punta del Este, Paysandú.

ACTIVIDADES

1. Con ayuda del atlas o del texto de estudio, ubica en el mapa las principales manifestaciones del relieve de la región.
2. Localiza los ríos más importantes y escribe sus nombres.
3. Ubica las principales ciudades de los países de esta región.



TEMA 15: AMERICA PORTUGUESA

RECUERDA QUE:

- Esta parte de Latinoamérica está conformada por el territorio de Brasil.
- El relieve presenta formas planas y montañosas cuyas características son:
 - Cuenca amazónica conformada por tierras planas y anegadizas cubiertas de selvas, atravesadas por el río Amazonas y sus numerosos afluentes. Se considera la cuenca más grande del mundo.
 - La parte montañosa está representada por el Macizo Brasileño, sistema orográfico en el que se distinguen la mesa de Matogrosso, las sierras do Mar, Geral y Mantiqueira.
- Gran parte de los numerosos ríos llegan al Océano Atlántico a través del río Amazonas, que tiene como afluentes los ríos Marafrón, Urubamba, Ucayali, Apurimac, Madeira, Xingú y Tocantins, entre otros.
- El clima en el norte de la región es predominantemente ecuatorial; en las zonas correspondientes a los macizos es de altura y hacia el sur se presentan débilmente las cuatro estaciones.
- La economía del Brasil se basa en la agricultura, la ganadería y la minería, recursos en los que se destaca en el continente latinoamericano. Cultivos principales son: café (mayor productor en el mundo), banano, maíz y tabaco. En la producción de ganado vacuno y porcino ocupa primeros lugares en el mundo. La riqueza animal se acrecienta con la pesca, que es abundante y variada. Brasil posee además ricos yacimientos de hierro, petróleo, bauxita, níquel, estaño y piedras preciosas.
- Las industrias más desarrolladas son: automotores, maquinaria agrícola, armamentos, pequeñas y medianas aeronaves, metalúrgicas en general, electrodomésticos, sintéticos, confecciones en tela y cuero.
- La capital de Brasil es Brasilia; otras ciudades de importancia son: Rio de Janeiro, Sao Paulo, Belo Horizonte, Porto Alegre, Recife, Fortaleza, Belén y Manaus.

ACTIVIDADES

1. En el mapa y con ayuda del atlas o del texto de estudio, señala las principales características del relieve brasileiro.
2. Localiza y nombra los principales ríos.
3. Localiza las principales ciudades.
4. Identifica los límites de la región.
5. Brevemente explica la principal diferencia cultural de Brasil con respecto a los demás países de América Latina.



TEMA 16: GENERALIDADES DE AMERICA LATINA

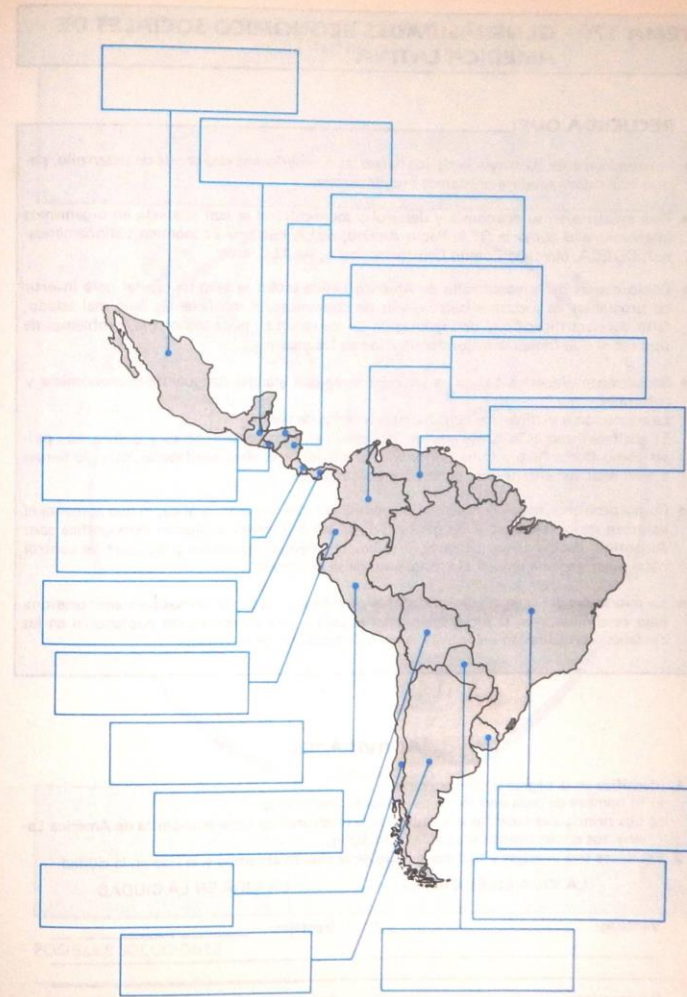
RECUERDA QUE:

PAIS	GOBIERNO	DIVISION POLITICO-ADMINISTRATIVA
Argentina	República federal	22 provincias, 1 territorio
Bolivia	República	9 departamentos
Brasil	República federal	22 estados, 4 territorios
Colombia	República unitaria	23 departamentos, 4 intendencias, 5 comisarías
Costa Rica	República	7 provincias
Cuba	República socialista	14 provincias, 1 municipio
Chile	República	13 regiones
Ecuador	República	20 provincias
Guatemala	República	22 departamentos
Haití	República	5 departamentos
Honduras	República	18 departamentos
Méjico	República Unida	31 estados, 1 distrito federal
Nicaragua	República	16 departamentos
Panamá	República	9 provincias, 1 comarca
Paraguay	República	19 departamentos, 1 distrito
Perú	República	25 departamentos
Puerto Rico	Estado libre	78 municipios
Rep. Dominicana	República	27 provincias
El Salvador	República	14 departamentos
Uruguay	República	19 departamentos
Venezuela	República	20 estados, 1 distrito federal 2 territorios-dependencias federales

- La mayoría de los países latinoamericanos orienta su régimen de gobierno con una constitución de carácter democrático.
- Los sistemas democráticos en Latinoamérica en varios casos son inestables debido a crisis sociales, laborales y/o económicas. Esto ha conducido varias veces a la implantación de regímenes militares de gobierno como en Chile.
- Entre algunos países del área hay diferencias por límites, dificultando las buenas relaciones, en detrimento del progreso mutuo. Entre ellas están las de: Venezuela-Colombia, Ecuador-Perú, Chile-Bolivia y Chile-Argentina.
- Hay naciones donde han surgido movimientos revolucionarios apoyados por potencias mundiales. Esos movimientos se desarrollan más que todo en Centroamérica; por ejemplo, El Salvador, Nicaragua, Honduras, Guatemala.

ACTIVIDADES

- En el recuadro de la gráfica correspondiente a cada país escribe:
 - Sobre la línea superior el nombre del país.
 - El nombre del presidente y el partido o movimiento político al que pertenece.
 - El principal problema que lo aqueja (político, económico, social, etc.).
 - Diferencia con distintos colores cada país y su respectivo recuadro.



TEMA 17: GENERALIDADES ECONOMICO-SOCIALES DE AMERICA LATINA

RECUERDA QUE:

- Económicamente, la mayoría de los países latinoamericanos está en vía de desarrollo, para lo cual deben acudir a préstamos internacionales.
- Para ayudarse en su economía y desarrollo socio-cultural se han asociado en organismos internacionales como la OEA, Pacto Andino, SELA (Sistema Económico Latinoamericano), ODECA, Mercado Común Centroamericano, ALALC, etc.
- Como causas del subdesarrollo de América Latina están: la falta de capital para invertir en programas de industrialización, vías de comunicación insuficientes o en mal estado, falta de electrificación y de explotación de los recursos; poca tecnología, problemas de tipo social que frenan la mejor distribución de los recursos.
- Socialmente, América Latina es un continente con grandes desigualdades económicas y culturales. La educación y el dinero se consideran privilegios de pocos. El analfabetismo es bastante crecido, principalmente en Centroamérica y Bolivia; hay países como Costa Rica y Cuba donde prácticamente no existen analfabetas; otros lo tienen a nivel relativamente medio, entre ellos Colombia.
- Como problema social también se encuentra la explosión demográfica, lo que aumenta el volumen de necesidades y de gastos. Los países con menor explosión demográfica son: Argentina, Puerto Rico, Uruguay y Cuba. Los demás desarrollan programas de control natal que tienden a reducir el crecimiento de su población.
- La migración del campo a las ciudades es otro fenómeno social latinoamericano; ocasiona bajo rendimiento en la producción agropecuaria y alta concentración poblacional en las ciudades, con aumento incontrolado en la demanda de los servicios.

ACTIVIDADES

1. Identifica en la página siguiente:
 - a) El nombre de cada uno de los países latinoamericanos.
 - b) Los principales aspectos o/ causas de la problemática socio-económica de América Latina, sus consecuencias y posibles soluciones.
2. Establece tres ventajas y tres desventajas de la vida en el campo y la vida en la ciudad.

LA VIDA EN EL CAMPO

Ventajas: _____

Desventajas: _____

LA VIDA EN LA CIUDAD

Ventajas: _____

Desventajas: _____

CAUSAS Y ASPECTOS DE LA PROBLEMÁTICA SOCIO-ECONOMICA DE AMERICA LATINA



CONSECUENCIAS

POSIBLES SOLUCIONES

TEMA 18: AMÉRICA ANGLOSAJONA - DELIMITACION. ASPECTO FISICO GENERAL

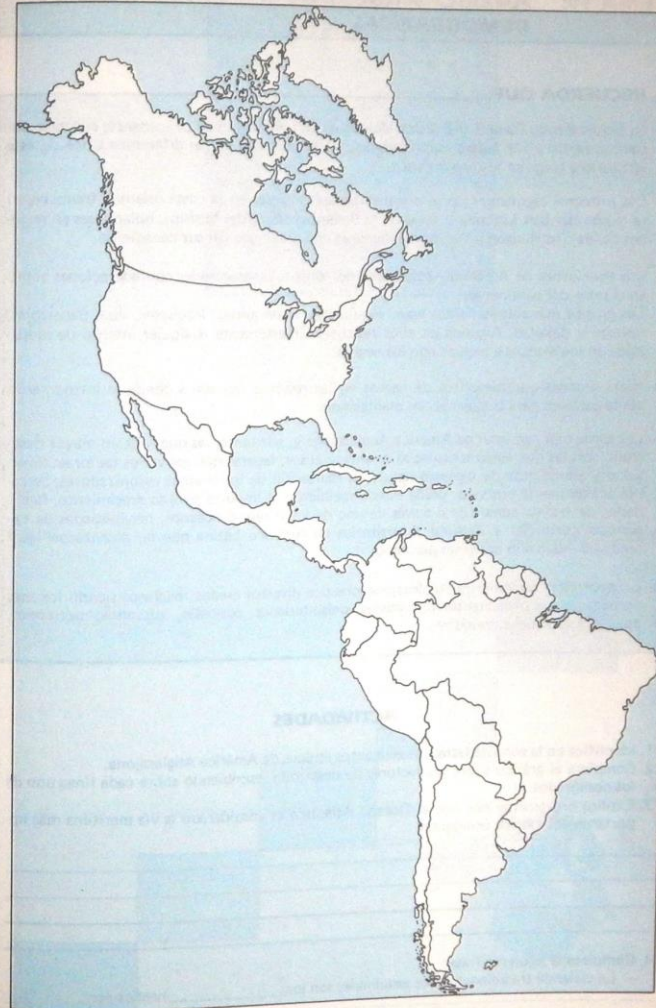
RECUERDA QUE:

- América Anglosajona está integrada por Canadá y Estados Unidos.
- Está comprendida entre el Océano Glacial Ártico, al norte, el Océano Pacífico, al occidente, el Océano Atlántico, al oriente, el Río Bravo o Grande del Norte y el golfo de Méjico al sur.
- Los países de esta parte del continente fueron colonizados principalmente por ingleses (anglos), franceses, holandeses, alemanes y belgas (sajones), que trasladaron su cultura distinguida con el nombre de anglosajona.
- Su relieve presenta cadenas montañosas paralelas a las dos costas y llanuras centrales de gran fertilidad, irrigadas por abundantes ríos; en la parte norte están entrecortadas por numerosos lagos.
- Los principales sistemas montañosos son: montañas Rocosas al occidente, con extrema aridez al sur y cubiertas de bosques o de nieves al norte. En Canadá los montes Mackenzie y en Alaska los montes Brooks, Richardson y Alaska. Por el oriente, cerca a la costa Atlántica, corren los montes Apalaches, que son de poca altura. En el noreste se encuentran el Escudo Laurentino y el Escudo Canadiense, cubiertos de amplios bosques.
- Los ríos desaguan en cualquiera de los tres océanos. Los que llegan al Ártico son de poca utilidad por la congelación de sus aguas; los de los otros dos océanos son caudalosos, largos en el Atlántico y cortos en el Pacífico. Las principales corrientes fluviales son: Misisipí-Misouri, San Lorenzo, Mackenzie, Yukón, Columbia, Colorado y Sacramento.
- Algunos lagos son: Superior, Michigan, Huron, Erie y Ontario.
- Predomina el clima de cuatro estaciones debido a la latitud. En la parte septentrional, circunvecina al polo, se presentan temperaturas frías de gran rigor.

ACTIVIDADES

1. Con ayuda del atlas o del texto de estudio, señala en el mapa:
 - a) Límites de América Anglosajona.
 - b) Características generales del relieve.
 - c) Principales ríos.
2. Brevemente, explica el principal factor que influye en el clima de esta parte continental.

3. El río más largo de América del Norte es:
 - a) San Lorenzo
 - b) Mackenzie
 - c) Misisipí
 - d) Sacramento
 - e) Colorado



TEMA 19: AMERICA ANGLOSAJONA. GENERALIDADES DEMOGRAFICAS

RECUERDA QUE:

- La población de Canadá y Estados Unidos en su mayoría es de procedencia europea, correspondiente a los países colonizadores que se ubicaron en los diferentes sitios de este territorio y luego se fusionaron entre sí.
- Los primeros asentamientos se organizaron así: ingleses en la costa oriental; franceses en la región del San Lorenzo y áreas de la desembocadura del Misisipí; holandeses en regiones de los ríos Hudson y Delaware; alemanes en las llanuras del sur canadiense.
- Los aborígenes de América Anglosajona no constituyeron grandes confederaciones como en el resto del continente.
Los grupos más sobresalientes eran: esquimales, algonquinos, iroqueses, siux, pielesrojas, navajos y dakotas. Algunos de ellos resistieron fuertemente cualquier intento de mestizaje con los blancos e incluso con los negros.
- Hubo grandes asentamientos de negros en las regiones del sur a donde se introdujeron como esclavos para trabajar en las plantaciones.
- Las áreas más pobladas de América Anglosajona y, por tanto, las que reflejan mayor desarrollo son las que están situadas al oriente y al sur; favorecidas por varios factores: diversidad y abundancia de recursos naturales, radicación de los pueblos colonizadores; cercanía al continente europeo, desde donde recibieron el impulso para su crecimiento; facilidades de tráfico comercial a través de uno de los mayores océanos, posibilidades de expansión comercial y cultural a territorios de América Latina que no alcanzaron igual grado de desarrollo desde un principio.
- La población de América Anglosajona practica diversos credos religiosos siendo los más numerosos los protestantes (calvinistas, presbiterianos, baptistas, luteranos, mormones, etc.), seguidos del catolicismo.

ACTIVIDADES

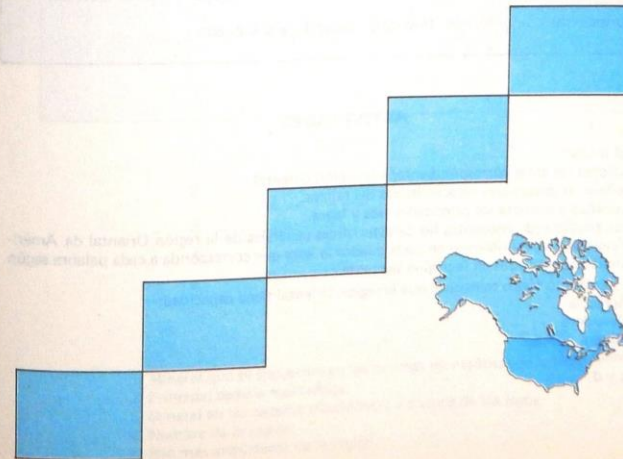
1. Identifica en la sopa de letras los elementos étnicos de América Anglosajona.
2. Completa el gráfico sobre los factores de desarrollo, escribiendo sobre cada línea uno de los nombrados.
3. Explica brevemente por qué el Océano Atlántico es considerado la vía marítima más importante del mundo occidental.

4. Completa la siguiente frase:

— La vivienda tradicional de los esquimales son los _____ hechos con _____

P	E	P	I	E	L	R	O	J	A	H
S	F	S	D	A	K	O	T	A	S	O
I	R	O	Q	U	E	S	E	S	L	L
U	A	L	M	U	X	N	O	E	A	
X	N	A	O	S	R	S	A	U	V	N
A	C	C	T	O	B	M	V	L	A	D
Y	E	U	L	R	K	P	A	D	L	E
O	S	N	F	G	M	A	J	L	T	S
N	E	T	E	E	X	F	O	P	E	E
L	S	E	I	N	G	L	E	S	E	S

DESARROLLO
INTEGRAL




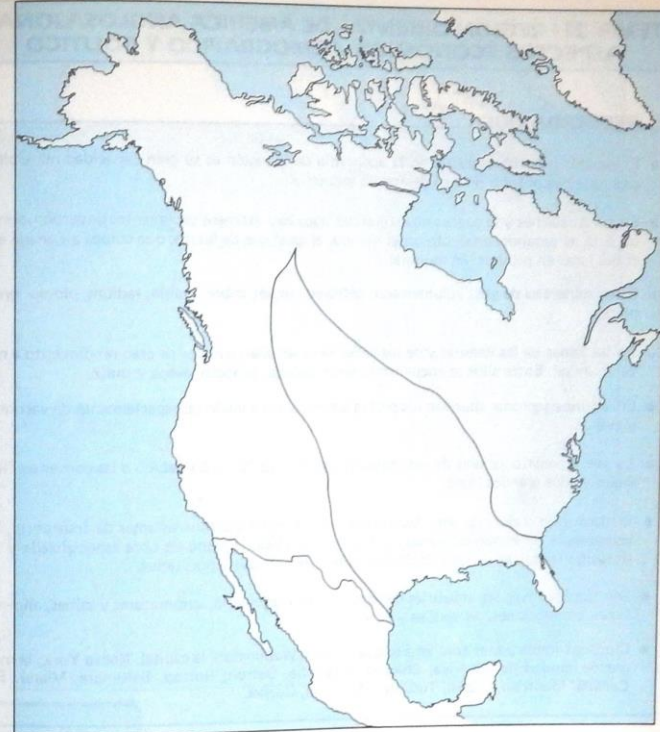
**TEMA 20: REGION ORIENTAL DE AMERICA
ANGLOSAJONA. ASPECTO FISICO**

RECUERDA QUE:

- La mayor parte de su territorio presenta un aspecto relativamente plano, surcado en el oriente por cadenas montañosas: los montes Apalaches, a lo largo de la costa; no presentan alturas de consideración, la más importante es el monte Mitchell.
- Los Apalaches hacia el suroeste se reparten en los montes Azules y los Cumberland. En toda su extensión son muy ricos en hierro y carbón.
- Las tierras planas presentan distintos aspectos:
 - La llanura costanera, comprendida entre la costa y las montañas; se extiende por todo el sector oriental siendo más ancha al sur que al norte.
 - La llanura de San Lorenzo, irrigada por el mismo río, constituye la cuenca de los grandes lagos y una de las regiones más fértiles.
 - El área de los lagos, situada entre Canadá y E.U., aparte de facilitar la comunicación fluvial posee grandes yacimientos de hulla y petróleo.
- El río más importante de la región es el San Lorenzo que permite el tránsito de buques de gran volumen; están además el Connecticut, Hudson, Delaware, Potomac, Savannah.
- Los lagos de la región son los mayores del mundo; entre ellos están: Superior, Michigan, Huron, Erie y Ontario, unidos entre sí por canales. Las aguas de algunos de ellos forman con los desniveles del suelo rápidos y cascadas. Entre otras las del Niágara, formadas por los lagos Erie y Ontario. Otros lagos son: Manitoba, Dubaniant y San John.
- El clima está influido por la altitud, la latitud, las corrientes marinas y los vientos.
- Según la latitud, la región posee cuatro estaciones modificadas por los otros factores.
- Las principales corrientes son: frías de Groenlandia y el Labrador.

ACTIVIDADES

1. En el mapa:
 - a) Colorea las áreas correspondientes a la región Oriental.
 - b) Señala las principales características del relieve.
 - c) Localiza y nombra los principales ríos y lagos.
2. En el crucigrama, encuentra las características generales de la región Oriental de América Anglosajona, escribiendo en cada cuadro la letra que corresponda a cada palabra según las indicaciones dadas en la página siguiente.
3. Por su aspecto físico se deduce que la región Oriental tiene capacidad:
 - a) Agrícola
 - b) Ganadera
 - c) Minera
 - d) Industrial
 - e) c y d



1. Mineral que se encuentra en las cadenas montañosas de la región.
2. Principal cadena montañosa.
3. Mineral en las cadenas montañosas y cuenca de los lagos.
4. Nombre de la región.
5. Río más importante de la región.

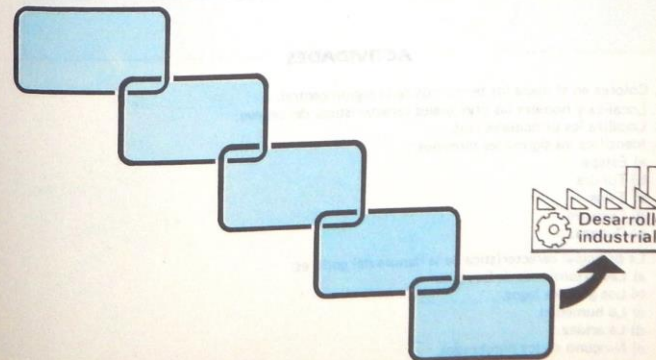
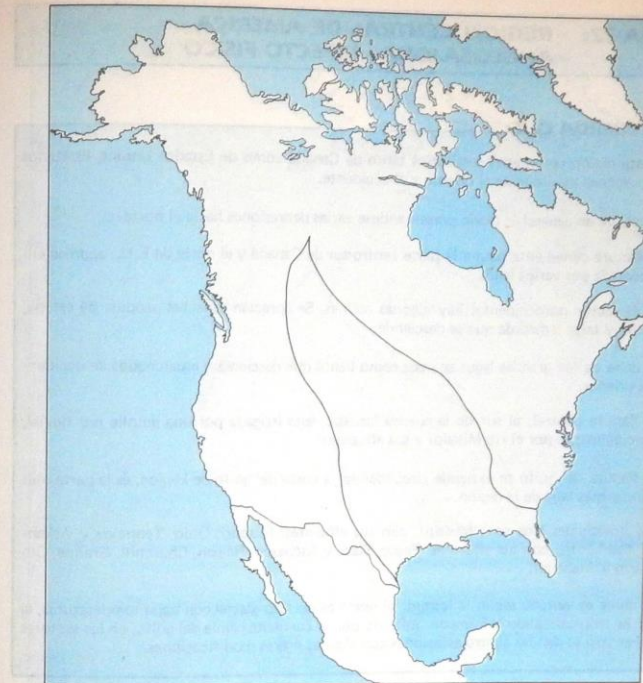
TEMA 21: REGION ORIENTAL DE AMERICA ANGLOSAJONA. ASPECTOS ECONOMICO, DEMOGRAFICO Y POLITICO

RECUERDA QUE:

- El aspecto más sobresaliente en la economía de la región es su gran capacidad mineralógica, que ha contribuido a su desarrollo industrial.
- En los Apalaches y la cuenca de los grandes lagos hay extensos yacimientos de carbón, siendo E.U. el segundo producto en el mundo, al igual que de hierro, que coloca a Canadá en el 5o. lugar en producción mundial.
- Otros minerales de gran volumen son: petróleo, níquel, cobre, uranio, radium, plomo, oro, plata.
- En las zonas de las llanuras y de los valles se desarrollan cultivos de gran rendimiento a nivel mundial. Entre ellos se encuentran: trigo, cebada, centeno, avena y maíz.
- En algunos sectores abundan los pastos aptos para la ganadería, especialmente de vacunos y ovinos.
- La pesca constituye uno de los mayores recursos de la región debido a las corrientes fluviales y a los grandes lagos.
- El desarrollo industrial está favorecido por los más modernos sistemas de transporte, la abundancia de materias primas, la fuerza energética, la mano de obra especializada y la situación ventajosa de los principales centros industriales y portuarios.
- Son significativas las industrias de todo tipo de maquinaria, automotores y afines, alimenticias, confecciones, de textiles y cueros.
- Ciudades importantes son: en Estados Unidos, Washington, la capital, Nueva York, la más grande ciudad de América, Chicago, Filadelfia, Detroit, Boston, Baltimore, Miami. En Canadá: Montreal, Ottawa, Toronto, Hamilton, Quebec.

ACTIVIDADES

1. Delimita en el mapa, con color, la región Oriental.
2. Ubica las principales ciudades de Canadá y Estados Unidos.
3. Con base en los recursos naturales y culturales, escribe en cada eslabón de la cadena los elementos que conduzcan al desarrollo industrial
4. Señala con una x la letra de la respuesta correcta:
— La capital de Canadá es:
a) Quebec
b) Ottawa
c) Montreal
d) Toronto
e) Boston



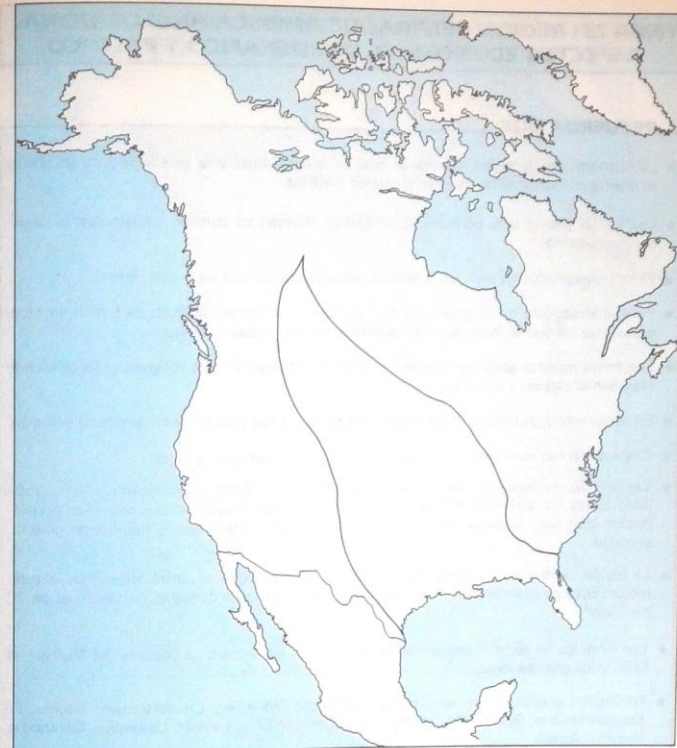
TEMA 22: REGION CENTRAL DE AMERICA ANGLOSAJONA. ASPECTO FISICO

RECUERDA QUE:

- A esta región pertenecen territorios tanto de Canadá como de Estados Unidos, limitados por cadenas montañosas al oriente y al occidente.
- Su relieve en general es plano presentándose varias depresiones hacia el norte.
- La llanura canadiense ocupa la parte centro-sur de Canadá y el norte de E.U.; aparece entrecortada por varios lagos.
- En el sector noroccidental hay algunas colinas. Se aprecian aspectos propios de estepa, tundra y taiga a medida que se desciende.
- La zona de los grandes lagos aparece como llanos que descienden escalonados de occidente a oriente.
- La llanura central, al sur de la cuenca lacustre, está irrigada por una amplia red fluvial, principalmente por el río Misisipí y sus afluentes.
- La llanura del golfo se extiende circundando la costa del golfo de Méjico; es la parte más plana y más baja de la región.
- Los principales ríos son: Misisipí, con sus afluentes: Missouri, Ohio, Tennesee y Arkansas, Mackenzie, con sus afluentes: Peace, Slave y Atabasco; Nelson, Churchill, Grande, Colorado y Alabama.
- El clima es variado según la latitud: al norte es de tipo glacial con bajas temperaturas; al sur es tropical cálido y húmedo, influido por la corriente cálida del golfo; en los sectores del centro se dan las cuatro estaciones con algunas ligeras modificaciones.

ACTIVIDADES

1. Colorea en el mapa los territorios de la región central.
2. Localiza y nombra las principales características del relieve.
3. Localiza los principales ríos.
4. Identifica los siguientes términos:
 - a) Estepa
 - b) Tundra
 - c) Taiga
 - d) Lacustre
 - e) Cuenca.
5. La principal característica de la llanura del golfo es:
 - a) Las extensiones de bosques.
 - b) Los grandes lagos.
 - c) La humedad.
 - d) La aridez.
 - e) Ninguno de los nombrados.



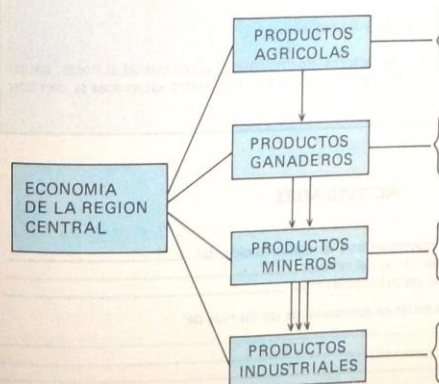
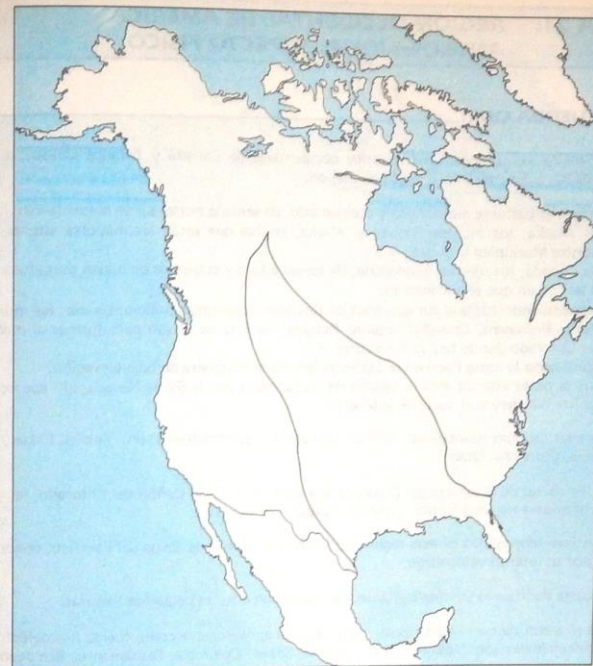
**TEMA 23: REGION CENTRAL DE AMERICA ANGLOSAJONA.
ASPECTOS ECONOMICO, DEMOGRAFICO Y POLITICO**

RECUERDA QUE:

- La economía de la región Central se basa en la agricultura y la ganadería para las cuales se cuenta con unas de las mejores tierras de América.
- Las tierras planas y la permanente irrigación facilitan los cultivos industriales; es decir, con maquinaria.
- Principales productos son: trigo, tabaco, algodón, maíz, caña de azúcar, arroz.
- Para el desarrollo de la ganadería hay grandes extensiones cubiertas de pastos enriquecidos, con los que se levanta, principalmente, ganado vacuno y ovino.
- Las zonas mineras están en la cuenca media del Misisipí y la de los grandes lagos, donde abundan el carbón y el hierro.
- En el sureste y en la plataforma submarina del golfo hay grandes yacimientos de petróleo.
- Otros minerales son: aluminio, cobre, cinc, plomo, níquel, oro y plata.
- Las principales industrias son: la de hidrocarburos, en la que se producen casi en su totalidad todos los derivados del petróleo dándole a Estados Unidos el 1er. puesto como productor mundial; las de acero, sintéticos, automotores, alimenticias y bebidas de gran diversidad.
- La región central es la menos poblada de Norteamérica debido, entre otras cosas, al establecimiento de grandes haciendas agropecuarias. Por eso, la densidad promedio es de 70 hab./km².
- Los principales asentamientos humanos se hallan en torno a las cuencas del Misisipí, el Ohio y los grandes lagos.
- Principales ciudades son: en Canadá, Edmonton, Winnipeg, Charlettetown, Regina. En Estados Unidos, Springfield, Indianápolis, Jefferson City, Lincoln, Columbus, Oklahoma, Nashville, Austin.

ACTIVIDADES

1. En el mapa:
 - a) Define los límites de la región Central.
 - b) Ubica las principales ciudades de la región.
2. Completa el cuadro sinóptico sobre los aspectos económicos.
3. Escribe el nombre de los estados de la región.



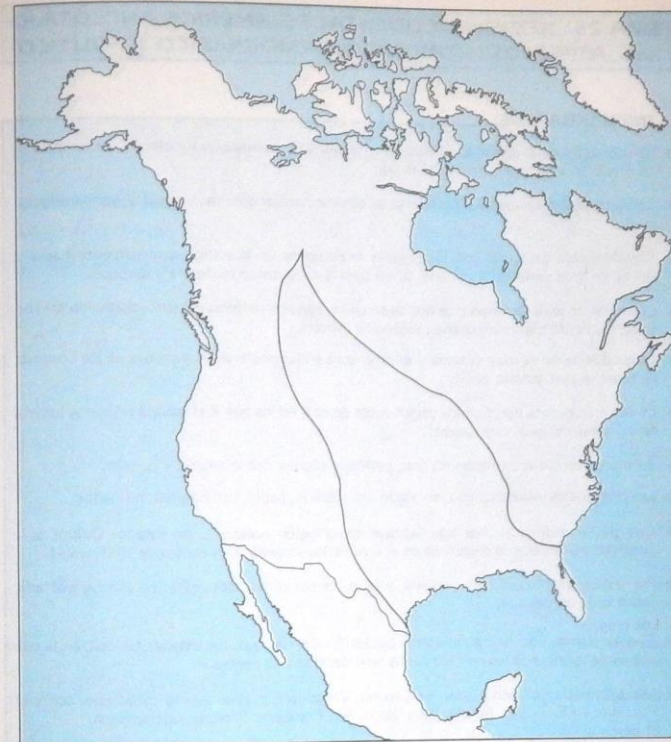
**TEMA 24: REGION OCCIDENTAL DE AMERICA
ANGLOSAJONA. ASPECTO FISICO**

RECUERDA QUE:

- Esta región comprende los territorios occidentales de Canadá y Estados Unidos; desde Alaska hasta las zonas limítrofes con Méjico.
- El relieve es bastante montañoso y accidentado; en sentido norte-sur se presenta así:
 - En Alaska, los montes Brooks y Alaska, en los que están las mayores alturas, los montes Mackinley y Logan.
 - En Canadá, los montes Mackenzie, de escasa altura y cubiertos de nieves perpetuas por la latitud en que se encuentran.
 - Descendiendo hacia el sur aparecen las Rocosas cuyas cimas principales son: los montes Hunt, Roosevelt, Churchill, Stalin, Robson; en E.U. se elevan para formar el macizo del Colorado donde hay varias alturas.
 - Bordeando la costa Pacífica se extiende la cadena costanera de baja elevación.
 - Por la parte interior está la cadena de las Cascadas con la Sierra Nevada; allí aparece el monte Whitney y el Valle de la Muerte.
- Entre las cadenas montañosas hay varias mesetas; las principales son: Yukón, Fraser, Columbia, Colorado, Utah.
- En los cortes de la meseta del Colorado se encuentra el Gran Cañón del Colorado, labrado por el mismo río, que forma la mayor depresión de América.
- El relieve montañoso de esta región pertenece al cinturón de fuego del Pacífico, conocido así por su intenso volcanismo.
- La costa Pacífica es además bastante acantilada con algunas pequeñas llanuras.
- Los ríos son de corto curso pero de gran caudal aprovechable como fuerza hidroeléctrica. Los principales son: Yukón, Fraser, Skeena, Snake, Columbia, Sacramento, San Joaquín y Colorado.
- Los lagos más importantes son: Salado y Aguanacial.
- El clima está determinado por varios factores. Se distingue el clima glacial al norte; continental en las mesetas, moderado en la costa y en el sur. Las cuatro estaciones se dan con algunas modificaciones.

ACTIVIDADES

1. En el mapa:
 - a) Colorea los territorios correspondientes a la región Occidental. _____
 - b) Ubica las principales características del relieve. _____
 - c) Señala y nombra el curso de los principales ríos. _____
2. Recuerda y diferencia la característica sobresaliente de los ríos de:
 - a) La región Oriental. _____
 - b) La región Central. _____
 - c) La región Occidental. _____



ESQUEMA

El relieve es bastante montañoso y accidentado; en sentido norte-sur se presenta así: En Alaska, los montes Brooks y Alaska, en los que están las mayores alturas, los montes Mackinley y Logan. En Canadá, los montes Mackenzie, de escasa altura y cubiertos de nieves perpetuas por la latitud en que se encuentran. Descendiendo hacia el sur aparecen las Rocosas cuyas cimas principales son: los montes Hunt, Roosevelt, Churchill, Stalin, Robson; en E.U. se elevan para formar el macizo del Colorado donde hay varias alturas. Bordeando la costa Pacífica se extiende la cadena costanera de baja elevación. Por la parte interior está la cadena de las Cascadas con la Sierra Nevada; allí aparece el monte Whitney y el Valle de la Muerte.

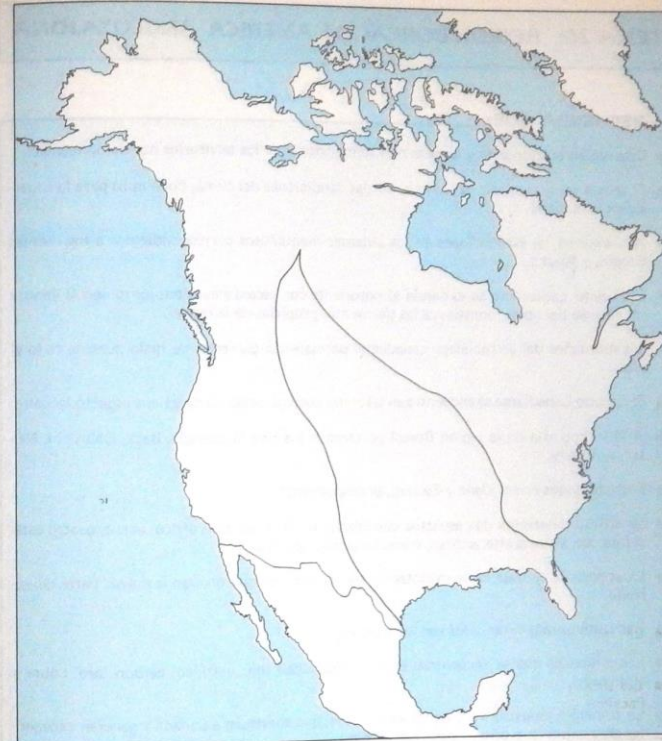
TEMA 25 : REGION OCCIDENTAL DE AMERICA ANGLOSAJONA. ASPECTOS ECONOMICO, DEMOGRAFICO Y POLITICO

RECUERDA QUE:

- La economía de la región Occidental Anglosajona no cuenta con suficientes recursos naturales debido a la constitución del suelo.
- Las actividades agrícolas y ganaderas se complementan con las mineras y las manufactureras.
- Característica principal son las grandes extensiones de bosques, especialmente hacia el norte, de gran variedad y tamaño, útiles para la producción maderera y de papel.
- Los cultivos se desarrollan más que todo en las llanuras costeras del sur; sobresalen los frutales, particularmente manzanas, viñedos y cítricos.
- La ganadería no es muy extensa y se promueve en las praderas intermedias de los bosques, en especial con ganado ovino.
- La minería cuenta con buenos yacimientos de oro, en los que E.U. ocupa primeros lugares en el mundo al igual que Canadá.
- En menos escala se explotan platino, petróleo, plomo, cobre, uranio y carbón.
- Las principales industrias son: enlatados, madereras, papel, siderúrgicas, refinados.
- Una de las industrias más significativas en la región occidental de Estados Unidos es la cinematografía, que se desarrolla en el área de los Angeles en el centro de Hollywood.
- Por las características de su relieve, y en parte del clima, esta región no es muy poblada, sobre todo en Canadá.
- El área cuenta con la mayoría de la población amerindia de los Estados Unidos, en la que sobresale la tribu de los navajos cuyos territorios son de reserva.
- Las principales ciudades son: en Canadá, Vancouver, primer puerto canadiense sobre el Pacífico; en E.U., Los Angeles, San Diego, San Francisco, Phoenix, Sacramento.

ACTIVIDADES

1. Delimita en color los territorios que hacen parte de la región Occidental.
2. Ubica las principales ciudades de Canadá y Estados Unidos.
3. A partir de la película, describe brevemente cinco tipos de empleo generados por la industria del cine.
4. Haz un breve resumen sobre las características de las reservas indígenas.



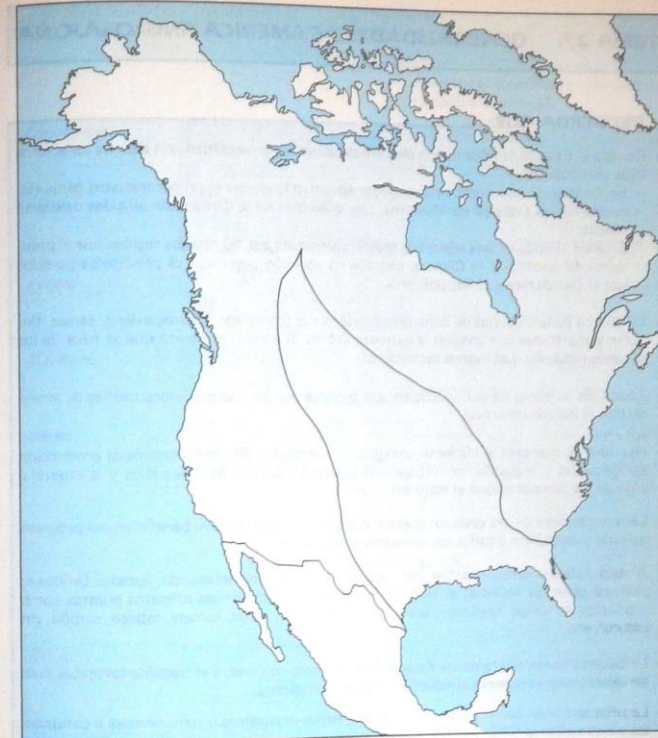
TEMA 26: REGION BOREAL DE AMERICA ANGLOSAJONA

RECUERDA QUE:

- Esta región corresponde a la parte más septentrional de los territorios norteamericanos.
- El relieve en su mayoría es plano y, por las condiciones del clima, poco apto para la supervivencia humana.
- Allí mueren las estribaciones de los sistemas montañosos correspondientes a los montes Brooks y Alaska.
- El Escudo Laurentino se extiende al nororiente con escasa elevación; junto con la llanura canadiense del norte, constituye las tierras más propicias de la región.
- Las montañas del archipiélago canadiense permanecen cubiertas de hielo durante todo el año.
- El Escudo Canadiense se encuentra en las zonas costaneras del norte y tiene aspecto lacustre.
- A la hidrografía de la región Boreal pertenecen los ríos Mackenzie, Back, Churchill, Nelson y Albany.
- Entre los lagos están: Osos y Esclavo, principalmente.
- La latitud determina dos aspectos climáticos: al norte, de tipo ártico, al sur, cuatro estaciones con algunas alteraciones, como inviernos rigurosos.
- La economía se basa en la explotación de los bosques que ocupan la mayor parte del terreno.
- Los cultivos más extendidos son los frutales.
- Los minerales que se encuentran en mayor cantidad son: petróleo, carbón, oro, cobre y aluminio.
- La principal industria es la de los aserraderos, que abastecen a Canadá y generan excedentes para exportar a otros lugares del mundo.
- La población es escasa; se distinguen los esquimales, que viven en islúts.
- Aparte de las islas canadienses nombradas en el tema 2, sobresalen como centros de actividad las capitales de los Estados de Alaska, Juneau, y de los territorios del noroeste, San John's.

ACTIVIDADES

1. En el mapa y con ayuda del atlas o del texto de estudio:
 - a) Delimita los territorios de la región Boreal.
 - b) Localiza las características del relieve, los ríos y los lagos.
2. Dibuja, en el espacio de la página 55, una escena correspondiente a la vida en la región Boreal de acuerdo con lo estudiado en recursos vegetales, animales, habitantes y costumbres.



TEMA 27: GENERALIDADES DE AMERICA ANGLOSAJONA

RECUERDA QUE:

- Canadá y Estados Unidos tienen régimen de gobierno democrático con algunas características particulares:
 - En Canadá no hay presidente: el poder ejecutivo lo ejerce el primer ministro conjuntamente con el Consejo de Ministros. Los miembros de la Cámara son elegidos mediante el voto.
 - Estados Unidos es una república federal compuesta por 50 estados regidos por el presidente, el Senado y la Cámara, elegidos en votación popular. Los principales partidos son el Demócrata y el Republicano.
- En ambos países las vías de comunicación terrestre (carreteras y ferrocarriles), aéreas, fluviales y marítimas son amplias y extensas debido al aprovechamiento que se hace de los recursos naturales y al avance tecnológico.
- Todos los sistemas de comunicación son servidos con los más modernos medios de acuerdo con el desarrollo actual.
- Hay una permanente y eficiente comunicación entre los diferentes lugares de producción agropecuaria e industrial, permitiendo el desarrollo integral de todos ellos y la interrelación de los dos países con el resto del mundo.
- Las condiciones de las comunicaciones y desplazamiento locativo benefician del progreso cultural y científico a todos los niveles de la población.
- Ambos países son reconocidos entre los más desarrollados del mundo; Estados Unidos es primera potencia mundial al lado de la Unión Soviética; ocupa primeros puestos como productor en varios renglones, entre otros, manzanas, sorgo, tomate, tabaco, carbón, gas natural, etc.
- La balanza comercial tanto de Estados Unidos como de Canadá es bastante favorable pues las exportaciones superan ampliamente las importaciones.
- Las dos naciones hacen parte de la mayoría de los organismos internacionales y continentales entre ellos la ONU y la OEA.
- En Estados Unidos tienen su sede muchas instituciones que controlan el movimiento monetario internacional; se destacan el Fondo Monetario Internacional (FMI) y el Banco Interamericano de Desarrollo (BID).

ACTIVIDADES

1. Dibuja cinco modalidades de transporte, con sus símbolos representativos, cinco medios de comunicación y escribe al frente de cada uno cómo facilitan el desarrollo e intercambio comercial y cultural de un país, región o continente.
2. Determina tres razones por las cuales el desarrollo de América Anglosajona es mayor que el de América Latina.

1. MODALIDAD DE TRANSPORTE

Favorece el desarrollo e intercambio comercial y cultural:

<i>Carretable</i>	<input type="text"/>	_____
<i>Férreo</i>	<input type="text"/>	_____
<i>Fluvial</i>	<input type="text"/>	_____
<i>Marítimo</i>	<input type="text"/>	_____
<i>Aéreo</i>	<input type="text"/>	_____

MEDIOS DE COMUNICACION

<i>Radio</i>	<input type="text"/>	_____
<i>Impresos en general</i>	<input type="text"/>	_____
<i>Televisión y cine</i>	<input type="text"/>	_____
<i>Correo</i>	<input type="text"/>	_____
<i>Satélite</i>	<input type="text"/>	_____

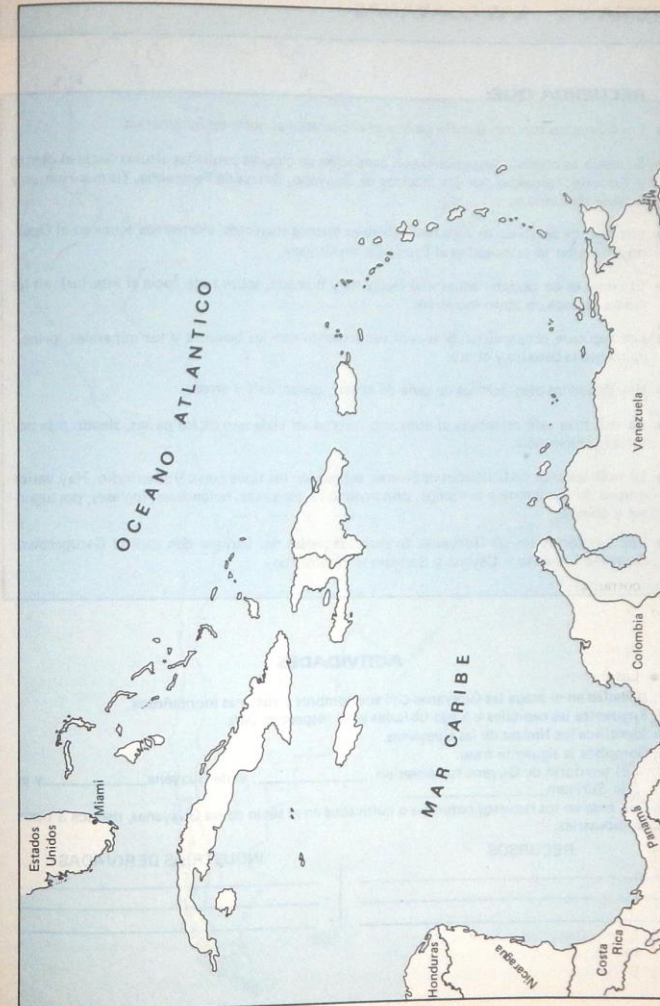
TEMA 28: LAS ANTILLAS

RECUERDA QUE:

- A las Antillas se les conoce también como Centroamérica Insular.
- Están integradas por las Antillas Mayores: Cuba, Jamaica, La Española (integrada a su vez por Haití y República Dominicana) y Puerto Rico; las Antillas Menores: Monserrate, Guadalupe, Dominica, Martinica, Santa Lucía, Islas Vírgenes, Barbados, Trinidad Tobago, Aruba, Bonaire, Curazao, Santo Tomás, San Martín, Barbuda, San Bartolomé, Antigua, Granada y otras más pequeñas integradas en Archipiélagos.
- El relieve de las Antillas es de aspecto volcánico sobresaliendo algunas alturas medianas. Las principales cadenas son: En Cuba, Sierra de los Organos y Sierra Madre; en Haití, las montañas Negras; en República Dominicana, la Cordillera Central; en Jamaica, montes Azules; en Puerto Rico, Cordillera Central; en Martinica, monte Peles; en Trinidad, monte Aripo. Hacia las costas hay algunas franjas planas que favorecen el desarrollo de la agricultura y las actividades turísticas.
- Por la estrechez de los suelos, los ríos no son muy notables; sobresalen: en Cuba, el Cauto; en República Dominicana, Artibonite, Yaque del norte y del sur; en Haití, Trois Rivières, en Puerto Rico, Grande de Loiza y Guayuabo.
- El clima de las Antillas en general, es tropical semihúmedo.
- La economía de las islas está basada en la agricultura, especialmente de caña de azúcar, que se cultiva en Cuba, Puerto Rico, República Dominicana y Jamaica. También se produce cacao, banano, café, cereales, frutas y tabaco.
- Los recursos animales provienen principalmente de la pesca marítima y la cría de aves de corral. El ganado vacuno, porcino y ovino sirve para complementar la alimentación.
- En minerales hay apreciables yacimientos de níquel en Cuba y República Dominicana principalmente; bauxita en Jamaica y Trinidad Tobago. También existen pequeños pozos de petróleo.
- Las industrias antillanas no son de gran volumen; sobresale Cuba en los derivados del azúcar. Las más considerables en los restantes países son las alimenticias.
- Las capitales de los países son: Cuba = La Habana; República Dominicana = Santo Domingo; Haití = Puerto Príncipe; Jamaica = Kingston; Puerto Rico = San Juan; Bahamas = Nassau; Barbados = Bridgtown; Bermudas = Hamilton; Granada = San Jorge; Trinidad Tobago = Puerto España; Guadalupe = Basse Terre; Martinica = Fort de France; Antillas Neerlandesas (Holandesas) = Willemstad.

ACTIVIDADES

1. En el mapa y con ayuda del atlas o texto de estudio, localiza cada una de las Antillas junto con su capital.
2. Di por qué puede ser importante la posición geográfica de algunas de las Antillas.



TEMA 29: LAS GUAYANAS

RECUERDA QUE:

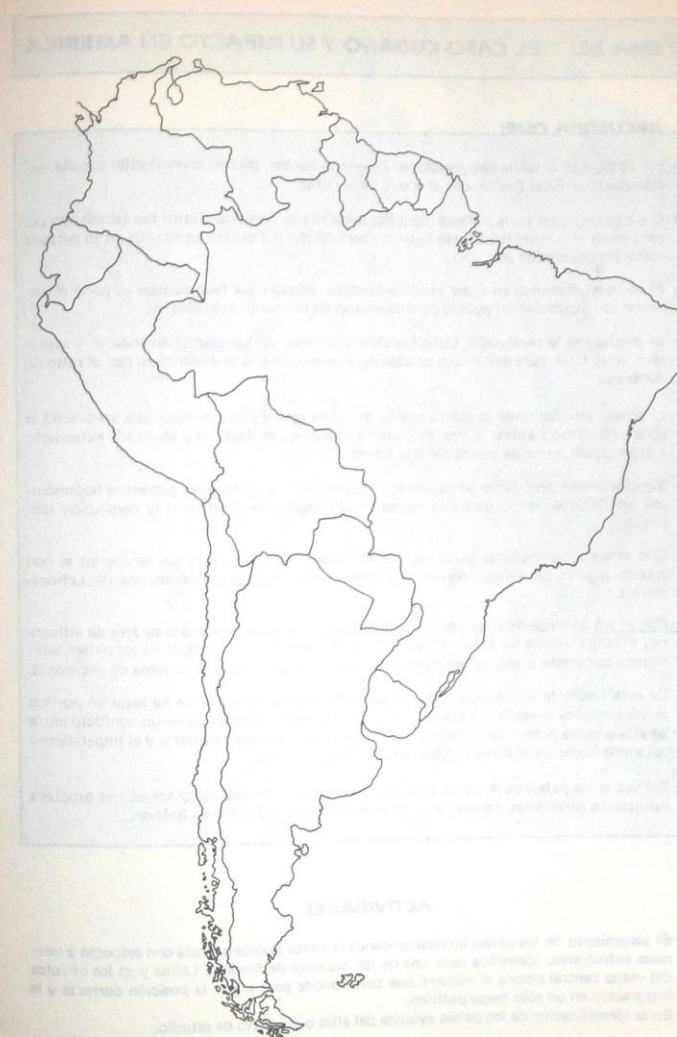
- Las Guayanas son tres territorios que se encuentran al norte de Suramérica.
- Su suelo es relativamente plano con excepción de algunas pequeñas alturas hacia el centro y suroeste, formadas por los macizos de Guayapo, Sierras de Pacaraima, Tumuc-Humac y la mesa de Zamura.
- Los ríos, de corto curso pero navegables en buenos trayectos, vierten sus aguas en el Océano Atlántico; el principal es el Essequibo en Guyana.
- El clima es de carácter ecuatorial (ardiente y húmedo, sobre todo hacia el interior); en las costas se hace un tanto moderado.
- Los recursos económicos de mayor rendimiento son los bosques y los minerales, principalmente la bauxita y el oro.
- Hay pequeñas plantaciones de caña de azúcar, cacao, café y arroz.
- La industria está orientada al consumo interno en cada uno de los países, siendo más notoria la alimenticia.
- La población de las Guayanas es diversa, sobresalen los tipos negro y amerindio. Hay varios grupos de inmigrantes europeos, principalmente franceses, holandeses, ingleses, portugueses y chinos.
- Los territorios de las Guayanas forman los países de: Guyana con capital Georgetown; Guayana Francesa = Cayena y Surinam = Paramaribo.

ACTIVIDADES

1. Localiza en el mapa las Guayanas con sus nombres y sistemas montañosos.
2. Encuentra las capitales y luego ubícalas en el respectivo país.
3. Identifica los límites de las Guayanas.
4. Completa la siguiente frase:
— El territorio de Guyana fue posesión _____, el de Guayana _____ y el de Surinam _____.
5. Con base en los recursos naturales o cultivados en el suelo de las Guayanas, deduce 3 tipos de industrias:

RECURSOS

INDUSTRIAS DERIVADAS



TEMA 30: EL CASO CUBANO Y SU IMPACTO EN AMERICA

RECUERDA QUE:

- En 1958, tras la salida del presidente Fulgencio Batista, triunfó la revolución cubana, encabezada por Fidel Castro, con el apoyo de la URSS.
- Cuba se convirtió en la primera república socialista de América. Castro fue asumiendo poco a poco el control del Estado hasta convertirse en un dictador, centrando en su persona todos los poderes de gobierno.
- El régimen impuesto en Cuba produjo cambios radicales que favorecieron en parte el bienestar socio-cultural del pueblo pero coartaron las libertades individuales.
- Al producirse la revolución, Cuba fue aislada del resto del continente americano y expulsada de la OEA para evitar que su ideología revolucionaria se expandiera por el resto de América.
- El aislamiento estimuló el acercamiento de la isla con el régimen ruso, que aprovechó la oportunidad para sentar la base del sistema comunista en América y desde allí extenderlo a otros países, principalmente del área Caribe.
- Siguiendo esos propósitos se ha logrado desestabilizar y acabar con gobiernos hegemónicos en Centroamérica, particularmente en Nicaragua, donde triunfó la revolución sandinista.
- Con el caso nicaraguense otros regímenes se han debilitado y en sus territorios se han creado lugares de adiestramiento guerrillero a diversos grupos subversivos de Latinoamérica.
- Con el fin de impedir el avance del sistema ruso y de no ver mermada su área de influencia, Estados Unidos ha ampliado su política de intervención en el resto de los países americanos apoyando a grupos contrarrevolucionarios o influyendo en la toma de decisiones.
- De esta forma la problemática de los países latinoamericanos no se ha resuelto por sus propios medios y según sus propios fines sino que se ha convertido en un conflicto entre las dos grandes potencias del mundo: el imperialismo ruso por una parte y el imperialismo norteamericano (de sistema capitalista) por otra.
- Tal vez si los países de América Latina se unieran podrían desarrollar soluciones propias a sus propios problemas, conforme fue el deseo del Libertador Simón Bolívar.

ACTIVIDADES

1. El aislamiento de los países latinoamericanos favorece la dependencia con respecto a intereses extranjeros. Identifica cada una de las naciones de América Latina y en los círculos del mapa central coloca el número que corresponda para lograr la posición correcta y la integración en un sólo mapa político.
En la identificación de los países ayúdate del atlas o del texto de estudio.



Contenido

TEMA 1: Posición astronómica y geográfica de América, Extensión	4
TEMA 2: Costas y accidentes litorales	6
TEMA 3: Generalidades del relieve americano	8
TEMA 4: Aspectos generales de la hidrografía y el clima de América.	10
TEMA 5: Regiones naturales y áreas culturales	12
TEMA 6: América Latina. Delimitación. Aspecto físico general.	14
TEMA 7: América Latina - Aspectos demográficos generales	16
TEMA 8: Méjico - Centroamérica Continental. Aspecto físico	18
TEMA 9: Méjico y Centroamérica Continental. Aspectos económico, demográfico y político	20
TEMA 10: Suramérica: Región noroccidental. Aspecto físico	22
TEMA 11: Región noroccidental de Suramérica. Aspectos económico, demográfico y político	24
TEMA 12: Región Central - Andina de Suramérica. Aspecto físico	26
TEMA 13: Región Central - Andina de Suramérica. Aspectos económico, demográfico y político	28
TEMA 14: Suramérica - Región Oriental y del Río de La Plata	30
TEMA 15: América Portuguesa	32
TEMA 16: Generalidades de América Latina	34
TEMA 17: Generalidades económico-sociales de América Latina.	36
TEMA 18: América Anglosajona - Delimitación. Aspecto físico general.	38
TEMA 19: América Anglosajona. Generalidades demográficas.	40
TEMA 20: Región Oriental de América Anglosajona. Aspecto físico	42
TEMA 21: Región Oriental de América Anglosajona. Aspectos económico, demográfico y político	44
TEMA 22: Región Central de América Anglosajona. Aspecto físico.	46
TEMA 23: Región Central de América Anglosajona. Aspectos económico, demográfico y político	48
TEMA 24: Región Occidental de América Anglosajona. Aspecto físico	50
TEMA 25: Región Occidental de América Anglosajona. Aspectos económico, demográfico y político	52
TEMA 26: Región Boreal de América Anglosajona	54
TEMA 27: Generalidades de América Anglosajona.	56
TEMA 28: Las Antillas.	58
TEMA 29: Las Guayanas	60
TEMA 30: El caso cubano y su impacto en América	62
Contenido	64



ISBN 958-05-0057-6 (Serie)
ISBN 958-05-0063-0 (B)

Un libro EDUCAR